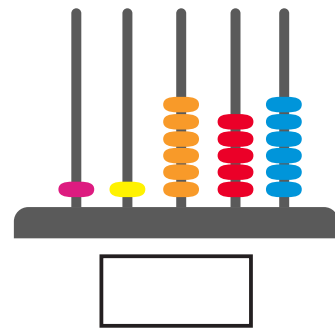
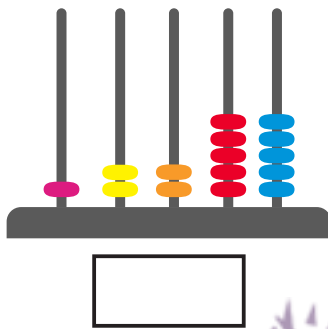


الهدف

يقرأ أعدادًا كبيرة ضمن ٩٩٩٩٩.

نشاط (١)

أكتب العدد الممثل على المعداد ثم اقرأه:



أقرأ الأعداد الموضحة:

٦٧٢٨٤

٩٥٢١

٢٣٩٥٥

٦٠٠٠١

٩٠٣٠٨

٤٤٠٤٤



نشاط (٢)

أكتب العدد بالصورة الموسعة:

الآلاف		الواحدات		
عشرات	آحاد	مئات	عشرات	آحاد
٩	٤	٨	١	٧

٧ آحاد + \_\_\_\_ عشرات + \_\_\_\_ مئات + \_\_\_\_ آحاد ألوف + \_\_\_\_ عشرات الألوف =

$$\underline{\hspace{2cm}} + \underline{\hspace{2cm}} + \underline{\hspace{2cm}} + 10 + 6 =$$

٣٨٥١٦ (٢)

$$\underline{\hspace{2cm}} + \underline{\hspace{2cm}} + \underline{\hspace{2cm}} + 7 =$$

٢١٨٧ (٣)

$$\underline{\hspace{2cm}} + \underline{\hspace{2cm}} + \underline{\hspace{2cm}} + 5 \text{ آحاد} =$$

٩١٠٥ (٤)

### نشاط (٣)

أكتب بالصورة المختصرة:

(١)  $3 \text{ آحاد} + 7 \text{ عشرات} + 2 \text{ مئات} + 6 \text{ آحاد الألوف} + 4 \text{ عشرات الألوف} =$   

(٢)  $30,000 + 10,000 + 2,000 + 500 + 8 =$   




## الأهداف

- ١- يكتب القيمة المنزلية لأرقام محددة.
- ٢- يقارن بين عددين ضمن ٩٩٩٩٩.

## نشاط (١)

أكتب القيمة المنزلية للرقم المحدد حسب الجدول:

العدد	الرقم	القيمة المنزلية
٢٦٤٧٨	٧	
٥١٤٠	١	
١١٠٤٧	٠	
٩٦٣٢٨	٩	
٣٢٥٧٧	٢	
٩٦٢١	١	
٧٣٦٩٥	٧	
٨٦٢٠٣	٠	



## نشاط (٢)

أقارن بين الأعداد الآتية بوضع إشارة <, >, =:

- |       |   |       |    |       |   |       |    |
|-------|---|-------|----|-------|---|-------|----|
| ١٤٢٥٤ | ○ | ١٣٢٥٤ | بـ | ٤٠٩٧٥ | ○ | ٤١٦٧  | أـ |
| ٨٠٠٠٢ | ○ | ٨٠٠٠٣ | دـ | ٨٢٩٦٧ | ○ | ٨٢٩٤٧ | جـ |
| ٩١٠٠٠ | ○ | ٩٠٠٠١ | وـ | ٧٦٧٥١ | ○ | ٦٦٧٥٤ | هـ |

ألون الأعداد بالكلمات مع المقابل لها بالأرقام بنفس اللون:

