

# سلاح التلميذ

منذ عام ١٩٦٠

## اللغة العربية

اختبارات نهاية الفصل الدراسي الأول



2023 - 2022

الصف السادس الابتدائي

6

# الاختبار ١

## أولاً : التعبير

١) الوظيفي : اكتب لافتة تدعو فيها زملاءك إلى ممارسة الرياضة .

٢) الإبداعي : اكتب في أحد الموضوعين الآتيين :

- السعادة شعور جميل يهواه كل إنسان . اكتب عن معنى السعادة ، وأسبابها في حياتنا .
- يستطيع كل إنسان أن يستفيد من وقت فراغه في ممارسة أنشطة مُفيدة . اكتب مَوْضَعًا طُرُق الاستفادة من وقت الفراغ .

## ثانياً : القراءة

### أولاً : من موضوع ( مفتاح النجاح ) اقرأ ، ثم أجب :

« يواجه الإنسان في مراحل حياته عقبات كثيرة ، عليه ألا يستسلم لها ، وهو يتطلع إلى المستقبل ، ويحلم بالنجاح ؛ فالنجاح هدف الإنسان ، ولكن الوصول إلى هذا الهدف يحتاج إلى مجموعة عناصر تعينه على مواجهة الحياة ، وتساعده على الوصول إلى النجاح » .

أ) هات : معنى ( عقبات ) : ..... ، ومضاد ( يستسلم ) : .....

ب) اختر الإجابة الصحيحة :

- ١) عندما نتعرض لمشكلة علينا ألا .....  
 ٢) يواجه الإنسان العقبات في .....  
 ج) ما هدف الإنسان ؟ وماذا يحتاج للوصول إلى هذا الهدف ؟

### ثانياً : من قصة ( علي مبارك ) اقرأ ، ثم أجب :

« أَحَبَّ ( عَلِيٌّ ) بَعْدَ ذَلِكَ الْهَنْدَسَةَ الَّتِي كَانَ يَرَاهَا أَلْغَاظًا لَا تُحَلُّ ، وَالْحِسَابَ الَّذِي كَانَ يَنْفَرُ مِنْهُ ؛ بِفَضْلِ هَذَا الْمُعَلِّمِ الْجَلِيلِ وَطَرِيقَتِهِ السَّهْلَةِ ، وَأَقْبَلَ عَلَيْهِمَا إِقْبَالًا شَدِيدًا ، وَتَفَوَّقَ فِيهِمَا ؛ حَتَّى كَانَ أَوَّلَ فِرْقَتِهِ » .

أ) هات : معنى ( ينفر ) : ..... ، مضاد ( أول ) : .....

ب) صوب الخطأ : المعلم الذي تتحدث عنه الفقرة هو الشيخ أحمد أبو خضر .

ج) لماذا أحبَّ ( علي مبارك ) الهندسة والحساب ؟ وما نتيجة ذلك عليه ؟



## القراءة متحررة المحتوى ( إجبارى ) اقرأ ، ثم أجب :

« إن حب مصر يملأ قلوب المصريين جميعهم ، وإننا أبناء مصر نبذل النفس والنفيس فى سبيلها حتى نرد بعض الدّين الذى علينا نحوها ، فكم هى سخية فى عطائها للمصريين ! وما كان المصريون ليقتصروا فى الوصول بها إلى أعظم درجات العزة والحضارة والمجد ، فليجعل كل منا مسعاه نحو الوطنية الصادقة . وإياكم والتكاسل عن أداء الواجب » .

أ أكمل : ( ١ ) جمع ( سبيل ) : ..... ( ٢ ) مفرد ( القلوب ) : .....

ب ضع علامة ( ✓ ) أو ( X ) :

- ( ) ( ١ ) حب مصر يملأ قلوب أبنائها .  
( ) ( ٢ ) يبذل أبناء مصر النفيس لرفعته .  
ج لماذا يبذل أبناء مصر النفس والنفيس لوطنهم ؟

## ثالثاً : المحفوظات أولاً: من نص ( ناصح أب ) اقرأ ، ثم أجب ( إجبارى ) :

قَالَ اللَّهُ تَعَالَى : ﴿ وَقِيلَ يَتَارِضْ أَبْلَعِ مَاءَكَ وَيَكْسَمْهُ أَقْلَعِ وَغِيضَ الْمَاءِ وَفُضِيَ الْأَمْرُ وَأَسْتَوَتْ عَلَى الْجُودِيِّ وَقِيلَ بُعْدًا لِلْقَوْمِ الظَّالِمِينَ ﴾ .

أ اختر الإجابة الصحيحة :

- ( ١ ) معنى ( أقلى ) : لا .....  
( ٢ ) الجودى : اسم .....  
( ٣ ) مضاد ( غيظ ) : .....

- ( تسقطى - تستجيبى - تمطرى )  
( مدينة - جبل - شاطئ )  
( فاض - نقص - تجمّد )

ب بِمَ أَمَرَ اللَّهُ - تَعَالَى - كُلًّا مِّنَ الْأَرْضِ وَالسَّمَاءِ ؟

ج ما جزاء الكافرين كما فهمت من الآية ؟

د مَا الْجَمَالُ فِي : ﴿ يَتَارِضْ أَبْلَعِ مَاءَكَ ﴾ ؟

## ثانياً : أجب عن سؤال واحد من السؤالين التاليين ( اختياري ) :

### السؤال الأول من نص ( الطماع والدجاجة ) اقرأ ، ثم أجب :

قَالَ الشَّاعِرُ :

فَظَنَّ يَوْمًا أَنَّ فِيهَا كَنْزًا  
فَقَبَضَ الدَّجَاجَةُ الْمُسْكِينُ  
وَشَقَّهَا نِصْفَيْنِ مِنْ غَفْلَتِهِ  
وَأَنَّه يُزْدَادُ مِنْهُ عِزًّا  
وَكَانَ فِي يَمِينِهِ سِكِّينُ  
إِذْ هِيَ كَالدَّجَاجِ فِي حَضْرَتِهِ

أ اختر الإجابة الصحيحة ممّا بين القوسين فيما يأتى :

- ( ١ ) مَعْنَى ( ظَنَّ ) : ..... ( ابْتَعَدَ - أَمْسَكَ - حَسَبَ )



( سَكَّيْنَانِ - سَكَاكَيْنِ - سُكُون )

( أَسْفَلَه - شِمَالَه - تَحْتَه )

٢) جَمْعُ ( سَكَّيْنِ ) :

٣) مُضَادُّ ( يَمِينَه ) :

ب) مَاذَا ظَنَّ الطَّمَاعُ ، كَمَا تَفْهَمُ مِنَ الْبَيْتِ الْأَوَّلِ ؟

ج) مَاذَا فَعَلَ الطَّمَاعُ مَعَ الدَّجَاجَةِ ؟ وَمَا نَتِيجَةُ مَا فَعَلَهُ ؟

د) مَاذَا أَفَادَتِ كَلِمَةُ ( مِنْ غَفْلَتِهِ ) فِي الْبَيْتِ الثَّلَاثِ ؟

### السؤال الثاني من نص ( أخب الإنسان ) اقرأ ، ثم أجب :

لقد جئنا إلى الدنيا معًا لنعيش إخوانًا  
ونسعد بالحياة معًا أحبباء وأعوانًا  
ولو شئنا أحلنا جنة الفردوس دنيانا

أ) تخير الإجابة الصحيحة مما بين القوسين فيما يأتي :

١) جمع ( الدنيا ) :

٢) مضاد ( نسعد ) :

٣) معنى ( أحلنا ) :

ب) ما الذي يدعو إليه الشاعر في الأبيات ؟

ج) ما الجمال في قول الشاعر : « معًا لنعيش إخوانا » ؟

د) ( لا فرق بين بنى الإنسان فى أى مكان ولا بين ألوانهم ) . اكتب البيتين الدالين على هذا المعنى .

### رابعًا : النحو

« العلماء السابقون رجال مهّدوا الطريق لغيرهم ، ومسيرة العلم أجزاؤها موصولة ومستمرة ، ولا جديد إلا وله بداية من قديم ، وأصبح العلماء المعاصرون يقرّون ذلك . فيا طلاب العلم ، عليكم أن تحبوا العلم مثلهم ؛ إن التشبه بالرجال فلاح » .

أ) أعرب ما تحته خط فى القطعة السابقة .

ب) استخرج من القطعة السابقة ما يأتي :

( خبرًا لمبتدأ ، وبيّن نوع الخبر - خبرًا لفعل ناسخ ، وبيّن نوعه - خبرًا لحرف ناسخ ، وبيّن نوعه ) .

ج) « الفلاحون صابرون » . أدخل على الجملة السابقة فعلًا ناسخًا ، واكتب الجملة صحيحة .

### خامسًا : الخط

اكتب ما يأتى بخط النسخ مرة ، وبخط الرقعة مرة أخرى :

« أَعْمَلُ دَائِمًا لِرَفْعَةِ شَأْنِ بِلَادِي وَنَهْضَتِهَا » .

### سادسًا : الإملاء

اكتب ما يملئ عليك .





١) اكتب رسالة إلى صديقك تهنئه فيها بفوزه بالمركز الأول في إحدى المسابقات الرياضية .

٢) اكتب في موضوع واحد من الموضوعين التاليين :

- تهتم الدولة بإنشاء الحدائق العامة . اكتب موضحاً أهميتها ودورها في الحفاظ عليها .
- القراءة تبنى الإنسان ، وتمنحنا المتعة والاستفادة . اكتب مبيناً أثرها على الإنسان .

### القراءة متعددة الموضوعات والقصة :

### ثانياً : القراءة

#### أولاً : من موضوع (زيارة ومفاجأة) اقرأ ، ثم أجب :

« عرفت مريم من الطبيب المعالج أن فاطمة أصيبت بهذا المرض الخطير منذ منتصف الإجازة الصيفية الماضية ، وتساءلت مريم: لم تغير شكلها هكذا ، وتساقط معظم شعر رأسها ؟ » .

أ) هات ما يلي من القطعة السابقة :

١) كلمة معناها ( أغلب ) : .....  
٢) كلمة مضادها ( نجت ) : .....

ب) حلل ما يأتي إلى مقاطع صوتية : ( الطبيب ) : .....

ج) متى أصيبت فاطمة بهذا المرض ؟ .....

#### ثانياً : من قصة ( على مبارك ) اقرأ ، ثم أجب :

« صدقوني أيها الناس ! لا فائدة من تعليمي بهذا الشكل ، فلم أستفد من المعلم الأول ، ولم ألق سوى الضرب والإهانة ، ولم أستفد من الكاتب ، ولم أشعر إلا بالضياع والإذلال ، وتشغلي خادماً حقيراً » .

أ) هات : معنى ( حقيراً ) : ..... ، مضاد ( فائدة ) : .....

ب) اختر الإجابة الصحيحة :

١) المتحدث في الفقرة هو ..... ( الشيخ مبارك - على مبارك - عنبر أفندي )

٢) المعلم الأول هو ..... ( الشيخ أحمد أبو خضر - الكاتب - ناظر المدرسة )

ج) كيف انخدع على مبارك في الكاتب ؟ .....

#### القراءة متحررة المحتوى ( إجباري ) اقرأ ، ثم أجب :

« ( لكل مقام مقال ) .. عبارة قد تكون سمعتها قبل ذلك ، وربما لا تدرك معناها جيداً ، ولكنها في غاية الأهمية ؛ فالمقصود أن تعرف ماذا تقول ومتى تقول ؛ فالكلام الذي يقال في التهنة بمناسبة سعيدة ، يختلف عن الكلام الذي يقال في العزاء أو المواساة في مناسبة حزينة ، والكلام الذي يعبر عن الحب والإعجاب ، يختلف عن الكلام الذي يعبر عن الغضب ، وهكذا .. المهم أن تعرف ماذا تقول ومتى تقول » .

أ) هات : معنى ( تدرك ) : ..... ، مضاد ( الغضب ) : .....



ب) ضع علامة ( ✓ ) أمام العبارة الصحيحة ، وعلامة ( X ) أمام العبارة الخطأ :

١) الكلام ثابت لا يتغير فى جميع المواقف . ( )

٢) لا بد أن نفكر فى الكلام قبل أن نتحدث . ( )

ج) ماذا نعنى بقولنا : « لكل مقام مقال » ؟ .....

ثالثاً : المحفوظات أولاً : من نص ( الدين المعاملة ) اقرأ ، ثم أجب ( إجبارى ) :

قَالَ رَسُولُ اللَّهِ ﷺ : « أَلَا مَنْ ظَلَمَ مُعَاهِدًا أَوْ انْتَقَصَهُ أَوْ كَلَّفَهُ فَوْقَ طَاقَتِهِ أَوْ أَخَذَ مِنْهُ شَيْئًا بَغَيْرِ طِيبِ نَفْسٍ ، فَإِنَّا حَاجِبُهُ يَوْمَ الْقِيَامَةِ » .

أ) مَا مَعْنَى : ( طَاقَتِهِ ) ؟ وَمَا جَمَعَ : ( حَقَّ ) ؟ وَمَا مُضَاد : ( حَاجِبُهُ ) ؟

ب) مَاذَا يَجِبُ عَلَيْنَا نَحْوَ أَهْلِ الْكِتَابِ ، كَمَا تَفْهَمُ مِنَ الْحَدِيثِ الشَّرِيفِ ؟

ج) مَا مَوْقِفُ الرَّسُولِ الْكَرِيمِ ﷺ مِمَّنْ يَظْلِمُ مُعَاهِدًا ؟

د) مَا الْجَمَالُ فِي قَوْلِ الرَّسُولِ ﷺ : « بَغَيْرِ طِيبِ نَفْسٍ » ؟

ثانيًا : أجب عن سؤال واحد من السؤالين التاليين ( اختياري ) :

السؤال الأول : من نص ( كن قويًا ) اقرأ ، ثم أجب :

يا شباب العلم فى الوادى الأمين  
مصر ترجو منكم جيلاً فتياً  
أشرق الصبح فهزوا النائمين  
سالم البنية مقدماً قوياً

أ) اختر من بين القوسين :

١) معنى ( الوادى الأمين ) : ( العالم - مصر - سيناء )

٢) مفرد ( النائمين ) : ( النمام - النائم - المنام )

٣) جمع ( العلم ) : ( العلماء - الأعلام - العلوم )

ب) لِمَنِ النِّدَاءُ فِي الْبَيْتَيْنِ ؟

ج) مَا صِفَاتُ الْجِيلِ الَّذِى تَتَمَنَاهُ مِصْرُ كَمَا فَهَمْتَ مِنَ الْبَيْتَيْنِ ؟

د) مَا نَوْعُ الْأَسْلُوبِ فِي « فَهَزُوا النَّائِمِينَ » ؟

السؤال الثانى : من نص ( الطماع والدجاجة ) اقرأ ، ثم أجب :

قَالَ الشَّاعِرُ :

وَشَقَّهَا نِصْفَيْنِ مِنْ غَفْلَتِهِ  
وَلَمْ يَجِدْ كَنْزًا وَلَا ( لِقِيَّةً )  
إِذْ هِيَ كَالدَّجَاجِ فِي حَضْرَتِهِ  
بَلْ عَظْمَةٌ فِي جَبْرِهِ مَرْمِيَّةٌ  
فَقَالَ لَا شَكَّ بِأَنَّ الطَّمْعَا  
ضَيَّعَ لِلْإِنْسَانِ مَا قَدْ جَمَعَ



أَكْمِلْ : ١ مَعْنَى ( لِقِيَّة ) : ٢ جَمْعُ ( عَظْمَةٌ ) : ٣ مُضَادُّ ( الطَّمَع ) :

ب كَيْفَ وَجَدَ الطَّمَّاعُ الدَّجَاجَةَ بَعْدَ أَنْ شَقَّهَا نِصْفَيْنِ ؟

ج اشرح الأبيات بأسلوبك .

د ما الجمال فى قول الشاعر: « وَشَقَّهَا نِصْفَيْنِ مِنْ غَفْلَتِهِ » ؟

#### رابعًا : النحو

« إِنَّ الأمَّ العظيمة هى التى تنجب العظماء ، وتمد الإنسانية بالمصلحين الذين يبعثون كوامن الحياة فيها . فيا أبناء مصر ، اعلّموا أن العظماء هم المصابيح على طريق التقدّم والرخاء ، الرافعون راية الحق ، آثارهم لا تقف عند حدود أوطانهم ، بل تتجاوزها إلى الآفاق الرحبية . فتسلحوا بالعلم ؛ لتكونوا مصابيح هداية لمن حولكم . »

أ أعرب ما تحته خط فى العبارة السابقة .

ب استخرج من العبارة ما يأتى :

( خبرًا لفعل ناسخ ، واضبطه بالشكل - مضافًا إليه - اسمًا لحرف ناسخ ، واضبطه بالشكل ) .

ج ضع خطأً تحت الإجابة الصحيحة مما بين القوسين فيما يأتى :

• « أصبح المجتهدون متقدّمين » . كلمة ( متقدّمين ) منصوبة ، وعلامة نصبها : ( الفتحة - الياء - الكسرة )

د « النابغون مُكْرَمُونَ من الدولة » . أدخل على الجملة السابقة ( صار ) ، وغير ما يلزم .

#### اكتب ما يأتى بخط النسخ مرة ، وبخط الرقعة مرة أخرى :

#### خامسًا : الخط

« ما استحق أن يؤلّد مَنْ عاشَ لنفسه فقط » .

#### سادسًا : الإملاء

اكتب ما يملأ عليك .



١ اكتبُ برقية تشكر فيها شخصاً ساعدك في حلِّ مشكلة تعرَّضتَ لها مؤخراً .

٢ اكتب في أحد الموضوعين الآتيين :

- للوالدين منزلة رفيعة وأفضال عظيمة . اكتب موضعاً فضلتهما وواجبك نحوهما .
- الناجح دائماً يفكر في النجاح . اكتب موضعاً عناصر النجاح الحقيقي وأثره على الفرد والمجتمع .

ثانياً : القراءة

أولاً : من موضوع ( المنصور والطيور ) اقرأ ، ثم أجب :

« دعا المنصور شُرطيَّه الخاص ، وأمره بِتَقْقُدِ أحوال أهل تلك الناحية ، ولم يمضِ وقت طويل ، حتى عاد الشرطي برجل ، يقول ويردد بين الناس أنه عثر على مبلغ من المال ، ولم يعرف صاحبه . أوقف الشرطي الرجل أمام المنصور . »

أ تخير الإجابة الصحيحة مما بين القوسين فيما يأتي :

- ١ معنى ( عاد ) : .....  
٢ مفرد ( أحوال ) : .....  
( رجع - غاب - ذهب )  
( حل - حالة - حال )

ب بأى شىء أمر المنصور شرطيَّه ؟ وما نتيجة ذلك ؟  
ج ما رأيك فى شخصية المنصور ؟

ثانياً ( من قصة ( على مبارك ) ، أجب :

- أ أكمل : ١ أهم ما يحتاجه أهل القرى هو العِلْم ..... ٢ وُلِدَ على مبارك فى قرية .....  
ب لماذا لم يستطع الشيخ مبارك تعليم ابنه بنفسه ؟  
ج كان الواقع مخالفاً لتوقعات على مبارك عندما وصل إلى مدرسة قصر العينى . بيّن ذلك .

القراءة متحررة المحتوى ( إجبارى ) اقرأ ، ثم أجب :

« السد العالى إنجاز حضارى لمصر فى العصر الحديث يضاف إلى إنجازات أبنائها على مر العصور ؛ فهذا السد المبارك قد حمى القرى المحيطة بنهر النيل من خطر الفيضان ، وَفَّرَ لمصر المياه التى كانت تهدر بلا فائدة ؛ لنستغلها فى استصلاح وزراعة أراضيها ، بالإضافة إلى توفير طاقة كهربائية هائلة ، فهو يبرهن على أن أبناء مصر قادرون على الإنجاز فى كل العصور ، ولا تزال الإنجازات مستمرة . »

أ هات ما يأتى :

- ١ معنى ( حمى ) : .....  
٢ جمع ( السد ) : .....



ب) ضع علامة ( ✓ ) أمام العبارة الصحيحة ، وعلامة ( X ) أمام العبارة الخطأ :

١) السد العالي إنجاز حضارى لمصر فى العصور القديمة . ( )

٢) وفَّر السد العالي لمصر طاقة كهربائية هائلة . ( )

ج) ما الذى يبرهن عليه السد العالي ، كما فهمت من الفقرة ؟

### ثالثاً : المحفوظات أولاً: من نص ( نصائح أب ) اقرأ ، ثم أجب ( إجبارى ) :

قال تعالى : ﴿ وَهِيَ تَجْرِي بِهِمْ فِي مَوْجٍ كَالْجِبَالِ وَنَادَى نُوحٌ ابْنَهُ، وَكَانَ فِي مَعْزِلٍ يَبْنَىٰ أَرْكَبَ مَعَنَا وَلَا تَكُن مَعَ الْكَافِرِينَ ﴾ .

ا) اختر الإجابة الصحيحة مما بين القوسين فيما يأتى :

١) مرادف ( معزل ) : ( معزول قريباً - معزول بعيداً - معزول سريعاً )

٢) مضاد ( الكافرين ) : ( الفاسقين - المخلصين - المؤمنين )

٣) « اركب معنا » أسلوب : ( نهى - أمر - نفى )

ب) اكتب إلى قوله تعالى : ﴿ فَكَانَ مِنَ الْمَعْزِفِينَ ﴾ .

ج) ما الجمال فى قوله تعالى : ﴿ مَوْجٍ كَالْجِبَالِ ﴾ ؟

### ثانياً : أجب عن سؤال واحد من السؤالين التاليين ( اختيارى ) :

#### السؤال الأول : من نص ( كُن قوياً ) اقرأ ، ثم أجب :

مِصْرُ تَرْجُو مِنْكُمْ جَيْلاً فَنِيًّا  
لا ضَعِيفًا خَائِرَ الْعِزْمِ عِيًّا  
إِنَّمَا الصَّحَّةُ عُتْوَانُ الْحَيَاةِ  
فَانْشُرُوهَا نَضْرَةً فَوْقَ الْجَبَاهِ

سَالِمَ الْبَنِيَّةِ مِقْدَامًا قَوِيًّا  
كُتِبَ الدُّلُّ عَلَى الْمُسْتَضْعَفِينَ  
فَانْشُرُوهَا نَضْرَةً فَوْقَ الْجَبَاهِ

ا) اختر الإجابة الصحيحة مما بين القوسين فيما يأتى :

١) مَعْنَى ( نضرة ) : ( قوة - جمالاً - صدقاً )

٢) مضاد ( خائر ) : ( شديد - قوى - مجتهد )

٣) مُفْرَدُ ( الْمُسْتَضْعَفِينَ ) : ( الضَّعِيف - الضَّعْف - الْمُسْتَضْعَف )

ب) إلى مَنْ يتحدث الشاعر فى الأبيات ؟

ج) ما الصفات التى لا ترجوها مصر فى أبنائها ؟ ولماذا ؟

د) ما الجمال فى قول الشاعر : « فَانْشُرُوهَا نَضْرَةً فَوْقَ الْجَبَاهِ » ؟



## السؤال الثاني : من نص (أضرب الإنسان) اقرأ ، ثم أجب :

لقد جننا إلى الدنيا      معاً لنعيش إخواناً  
ونسعد بالحياة معاً      أحبباء وأعواناً

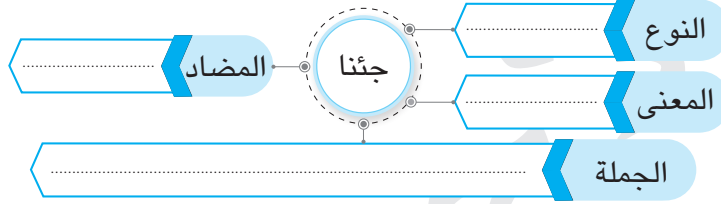
أ اختر الإجابة الصحيحة مما بين القوسين :

- ١ معنى ( نسعد ) : .....  
٢ مضاد ( أحبباء ) : .....  
٣ مفرد ( أعوان ) : .....  
( نفرح - نسعد - نسرع )  
( أحياء - أعداء - أحرار )  
( عين - مُعان - عون )

ب إلام يدعو الشاعر الإنسان ؟

ج ما الجمال في قوله : « معاً لنعيش إخواناً » ؟

د أكمل خريطة الكلمة :



### رابعاً : النحو

« إن العدل من سمات المؤمنين ، والصدق في القول سبيل المنصفين ، وبالعدل والصدق يحقق الإنسان آماله ، فعليكم بالعدل والصدق حتى يصبح التفوق سهلاً » .

أ أعرب ما تحته خط .

ب استخرج من الفقرة السابقة ما يلي :

( خبراً لمبتدأ ، وبيّن نوعه - اسماً لحرف ناسخ - خبراً لحرف ناسخ ، وبيّن نوعه ) .

ج « أصبحنا صائمين » . احذف ( أصبح ) ، واكتب الجملة صحيحة .

### خامساً : الخط

اكتب ما يأتي بخط النسخ مرة ، وبخط الرقعة مرة أخرى :

« بالعلم تُبنى الأمم » .

### سادساً : الإملاء

اكتب ما يملأ عليك .



أولاً : التعبير

١) الوظيفي : اكتب تقريراً عن عرض مسرحي أدّاه فريق التمثيل بالمدرسة .

٢) الإبداعي : اكتب في أحد الموضوعين الآتيين :

- الماء سبب ضروري للحياة . اكتب عن أهميته في حياة الكائنات ، ودورنا في الحفاظ عليه .
- نحتاج إلى الأصدقاء في حياتنا . اكتب عن معنى الصداقة ، وأهميتها في حياتنا ، وكيفية اختيار الصديق .

القراءة متعددة الموضوعات والقصة :

ثانياً : القراءة

أولاً : من موضوع ( ذكاء صبي ) اقرأ ، ثم أجب :

« فقال عمر : عظمي يا غلام . فقال : يا أمير المؤمنين ، إن أناساً غرهم حلم الله ، وثناء الناس عليهم ؛ فلا تكن ممن يغره حلم الله وثناء الناس عليه ؛ فتزل قدمك » .

أ) هَاتِ : مرادف ( تزل ) ، وجمع ( غلام ) .

ب) تخير الإجابة الصحيحة مما بين القوسين فيما يأتي :

١) تتحدث العبارة عن أمير المؤمنين ( عمر بن الخطاب - عمر بن عبد العزيز - هشام بن عبد الملك )

٢) كان عمرُ هذا الغلام ..... سنة . ( إحدى عشرة - اثنتى عشرة - ثلاث عشرة )

ج) ما جزاء مَنْ يغره حلم الله وثناء الناس عليهم ؟

( ثانياً ) من قصة ( علم مبارك ) اقرأ ، ثم أجب :

« وجدت ما تطلب يا صديقي ؛ فعندنا في السجن فتى أمين مظلوم ، جيد الخط ، بارع في الحساب ، وأراه ينفع مأمورك ، فهل يمكنك أن تسعى له في تلك الوظيفة لوجه الله تعالى ؟ » .

أ) مَنْ المتحدث في العبارة ؟ وإلى مَنْ ؟

ب) مَنْ الفتى المظلوم الذى تتحدث عنه العبارة ؟

ج) اختر الإجابة الصحيحة :

١) يمكن أن نصف المتحدث بأنه ..... ( رحيم - عنيد - مظلوم )

٢) قوله : « لوجه الله تعالى » تعنى : ..... ( بمقابل مادي - طلب رضا الله - بمقابل مصلحة أخرى )

القراءة متحررة المحتوى ( إجباري ) اقرأ ، ثم أجب :

« الأنشطة المدرسية فوائدها كثيرة ؛ فهي تساهم في خلق جيل يتصف بقوة الجسم وطيب الأخلاق ، ويجب أن يُقبل عليها الطلاب وهم مدركون لفوائدها ، فإن فعلوا ذلك عاشوا سعداء » .



١ معنى ( تساهم فى ) : .....  
٢ مفرد ( أنشطة ) : .....

ب ضع علامة ( ✓ ) أمام العبارة الصحيحة ، وعلامة ( X ) أمام العبارة غير الصحيحة :

١ الأنشطة المدرسية فوائدها محدودة . ( )

٢ تساهم الأنشطة المدرسية فى تربية التلاميذ أخلاقياً . ( )

ج أجب : ما نصيحتك لزميلك الذى يرفض المشاركة فى الأنشطة المدرسية ؟ .....

ثالثاً : المحفوظات أولاً : من نص ( الدين المعاملة ) اقرأ ، ثم أجب ( إجبارى ) :

قَالَ رَسُولُ اللَّهِ ﷺ : « أَلَا مَنْ ظَلَمَ مَعَاهِدًا أَوْ انْتَقَصَهُ أَوْ كَلَّفَهُ فَوْقَ طَاقَتِهِ أَوْ أَخَذَ مِنْهُ شَيْئًا بَغَيْرِ طِيبِ نَفْسٍ ، فَأَنَا حَاجِبُهُ يَوْمَ الْقِيَامَةِ » .

أ مَا مَعْنَى ( بَغَيْرِ طِيبِ نَفْسٍ ) ؟ وَمَا مُضَاد ( كَلَّفَهُ ) ؟ وَمَا جَمْع ( حَاجِبٍ ) ؟ .....

ب إِلَامَ يَدْعُو الْحَدِيثَ الشَّرِيفُ ؟ .....

ج هَاتِ مِنَ الْحَدِيثِ الشَّرِيفِ تَعْبِيرًا يُشِيرُ إِلَى أَنَّ أَسَاسَ الْمُعَامَلَةِ هُوَ الرِّضَا وَالْقَبُولُ . .....

د بَيِّنْ صُورَ ظُلْمِ الْمُعَاهِدِ ، كَمَا فَهَمَّتْ مِنَ الْحَدِيثِ الشَّرِيفِ . .....

ثانيًا : أجب عن سؤال واحد من السؤالين التاليين ( اختياري ) :

السؤال الأول من نص ( الطماع والدجاجة ) اقرأ ، ثم أجب :

قَالَ الشَّاعِرُ :

كان البخيل عنده دجاجة  
فى كل يوم مر تعطيه العجب  
فطن يوماً أن فيها كنزا  
تكفيه طول الدهر شر الحاجة  
وهى تبيض بيضة من ذهب  
وأنه يزداد منه عزاً

أ اختر الإجابة الصحيحة مما بين القوسين لما يلى :

١ جمع ( كنز ) : .....  
( كائزون - كنوز - كئزون )

٢ مرادف ( غفلته ) : قلة .....  
( إدراكه - علمه - ماله )

٣ مضاد ( البخيل ) : .....  
( الغنى - الأمين - الكريم )

ب ما رأيك فى تصرف صاحب الدجاجة ؟ .....

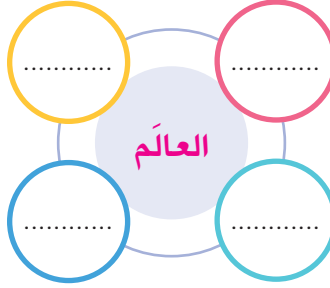
ج وضح الجمال فى قول الشاعر : « دجاجة تكفيه شر الحاجة » . .....





أخى فى العالم الواسـ .....  
 أخى الأبيض والأسـو .....  
 أمد يـدى فصافحها .....  
 مع فى المغرب والمشرق .....  
 د فى جوهرك المطلق .....  
 تجد قلبى بها يخفق .....

- أ هات : معنى ( جوهرك ) ، ومضاد ( المغرب ) ، وجمع (المشرق) .  
 ب ( الشاعر يوجه خطابه إلى جميع بنى الإنسان ) . من أين نفهم ذلك فى الأبيات ؟  
 ج وضّح الجمال فى قول الشاعر : « المطلق » .  
 د أكمل شبكة المفردات :



## رابعاً : النحو

« تقديم الخير للناس عمل جميل ، صاحبه يكون محبوباً بين الناس جميعاً ، فليت الناس يدركون قيمة العمل الصالح ويقبلون عليه ؛ أملًا فى طاعة الله ، فاحرصوا على فعله دائماً » .

- أ أعرب ما فوق الخط فى الفقرة السابقة .  
 ب استخرج من الفقرة ما يلى :  
 ١ خبراً لحرف ناسخ ، وبيّن نوعه .  
 ٢ خبراً لمبتدأ ، وبيّن نوعه .  
 ٣ فعلاً ناسخاً .  
 ٤ مفعولاً به .  
 ج أجب بما هو مطلوب بين القوسين :  
 ١ الناجحون ماهرون .  
 ٢ لعل القادرون رحماء .  
 ( أدخل على الجملة حرفاً ناسخاً ، وغير ما يلزم )  
 ( صوّب الخطأ فى الجملة السابقة )

## خامساً : الخط

اكتب ما يأتى بخط النسخ مرة ، وبخط الرقعة مرة أخرى :

« نحن فداء للوطن » .

## سادساً : الإملاء

اكتب ما يملأ عليك .



أولاً : التعبير

١) الوظيفة : لخص الفقرة التالية فى سطر واحد :

« الأمانة صفة من الصفات الحميدة التى يجب علينا أن نتصف بها ؛ لأن الوطن يحتاج إلى كل أمين ؛ فالجندى الذى يحمى أرض الوطن ويفدى ترابه بروحه أمين ، والطبيب الذى يؤدى عمله بإتقان ويسهر على راحة المرضى أمين ، والمعلم الكفء الذى يبذل قصارى جهده فى تعليم أبناء الوطن أمين ، والصانع المخلص فى مصنعه أمين » .

٢) الإبداعى : اكتب فى أحد الموضوعين الآتيين :

- البشر بحاجة إلى التعاون ونَبذ الخلاف . اكتب عن أهمية التعاون ، وسبل تحقيقه بين الناس .
- النظافة سلوك حضارى يحافظ على صحتنا . اكتب عن النظافة ، وأهميتها فى حياتنا .

القراءة متعددة الموضوعات والقصة :

ثانياً : القراءة

أولاً : من موضوع ( يوم لا ينسب ) اقرأ ، ثم أجب :

« قَالَ سَامِحٌ فَرِحًا : سَوْفَ نَكُونُ جَمِيعًا فِي اسْتِقْبَالِهَا ، وَيُمْكِنُنَا أَنْ نُزِينَ الْفَصْلَ بِشَرَائِطَ مُلَوَّنَةٍ ، وَأَصَافَ أَحْمَدُ : وَيُمْكِنُنَا كَذَلِكَ أَنْ نَكْتُبَ لَوْحَةً تَرْجِيْبُ بِهَا ؛ لِتَرَاهَا وَهِيَ تَدْخُلُ الْفَصْلَ » .

- أ) استخرج من الفقرة : ١) مَعْنَى ( نَجْمَل ) : ..... ٢) مضاد (حزيناً) : .....
- ب) ماذا اقترح الأصدقاء قبل استقبال فاطمة؟ .....

ج) حل الكلمتين الآتيتين إلى مقاطع صوتية :

- ( اسْتِقْبَالِهَا ) : ..... / ..... / ..... / ..... / .....
- ( مُلَوَّنَةٍ ) : ..... / ..... / ..... / ..... / .....

ثانياً) من قصة ( على مبارك ) اقرأ ، ثم أجب :

« عِنْدَمَا ذَهَبَ الصَّبِيُّ إِلَى الشَّيْخِ فِي كُتَّابِهِ ، وَجَدَهُ كَاشَرَ الْوَجْهِ ، قَاسَى الطَّبْعَ ، بِجَانِبِهِ عَصَا غَلِيظَةٌ ، يَنْظُرُ إِلَيْهَا أَوْلَادُ الْكُتَّابِ فِي خَوْفٍ شَدِيدٍ ، فَمَلَكَهُ الرُّعْبُ ، ثُمَّ ازْدَادَ مَا بِهِ مِنَ الْفَزَعِ وَهُوَ يَرَى تِلْكَ الْعَصَا تَهْوِي عَلَى جَسَدِ بَعْضِ أَوْلَادِكَ الْأَوْلَادِ لِأَنَّهُ الْأَسْبَابُ » .

أ) اختر الإجابة الصحيحة :

- ١) الشيخ الذى تحدثت عنه الفقرة هو الشيخ ..... ( مبارك - أحمد أبو خضر - عنبر أفندى )
- ٢) قوله: « فملكه الرعب » تعنى: ..... ( استولى عليه الخوف - امتنع عن القلق - جلس دون خوف )

ب) ما الصورة التى رسمها الكاتب للشيخ ؟

ج) هل تعجبك شخصية هذا الشيخ ؟ ولماذا ؟



## القراءة متحررة المحتوى ( إجباري ) اقرأ ، ثم أجب :

« النيل أعظم ما وهبه الله للمصريين ، إنه يشق أرض مصر جاريًا من الجنوب إلى الشمال حاملًا الخير الوفير ، وهو السبب الرئيسي في قيام الحضارة المصرية القديمة التي أبهرت العالم على مر السنين ؛ فعلينا أن نحافظ على مياهه من التلوث ، وأن نرشد استهلاك المياه ؛ فلا نبدها فيما لا يفيد » .

أ هات :

١ مرادف ( الوفير ) : .....  
٢ مفرد ( السنين ) : .....

ب ضع علامة ( ✓ ) أمام العبارة الصحيحة ، وعلامة ( X ) أمام العبارة غير الصحيحة :

١ نهر النيل السبب الرئيسي في قيام الحضارة الفرعونية . ( )

٢ يشق نهر النيل مصر جاريًا من الشمال إلى الجنوب . ( )

ج اكتب عنوانًا مناسبًا للفقرة .

## ثالثًا : المحفوظات أولاً : من نص ( نوائح أب ) اقرأ ، ثم أجب ( إجباري ) :

قَالَ اللَّهُ تَعَالَى : ﴿ قَالَ سَآوِي إِلَى جَبَلٍ يَعْصِمُنِي مِنَ الْمَاءِ قَالَ لَا عَاصِمَ الْيَوْمَ مِنْ أَمْرِ اللَّهِ إِلَّا مَنْ رَحِمَ وَحَالَ بَيْنَهُمَا الْمَوْجُ فَكَانَ مِنَ الْمُغْرَقِينَ ﴾ ٤٣ وَقِيلَ يَتَّأَرِضْ أِبْلَى مَاءٍ لَكَ وَنَسَمَاءُ أَقْلَى وَغِيضَ الْمَاءِ وَقُضِيَ الْأَمْرُ وَاسْتَوَتْ عَلَى الْجُودِيِّ وَقِيلَ بُعْدًا لِلْقَوْمِ الظَّالِمِينَ ﴿ .

أ اختر الإجابة الصحيحة مما بين القوسين فيما يأتي :

١ مضاد ( يعصمني ) : ..... ( يحميني - يرحمني - يهلكني )

٢ تفسير كلمة ( عاصم ) : ..... ( عادل - حافظ - سائر )

٣ مفرد ( المُغْرَقِينَ ) : ..... ( المُغْرَق - الغارق - الغارقة )

ب ماذا كان رد ابن سيدنا نوح على أبيه ؟

ج بِمَ احتمى ابن سيدنا نوح ؟ وكيف كانت عاقبته ؟

د ما الجمال في قوله تعالى : ﴿ وَنَسَمَاءُ أَقْلَى ﴾ ؟

ثانيا : أجب عن سؤال واحد من السؤالين التاليين ( اختياري ) :

السؤال الأول من نص ( كُن قويا ) اقرأ ، ثم أجب :

قَالَ الشَّاعِرُ :

إنما الصحة عنوان الحياة  
فانشروها نضرة فوق الجباه  
وارسموها بسمة فوق الشفاه  
وابعثوها رحمة للعالمين

أ اكتب مكان النقط :

١ معنى ( عنوان الحياة ) : .....  
٢ مفرد ( العالمين ) : .....  
٣ مضاد ( الصحة ) : .....



ب ١ ماذا يطلب الشاعر من الشباب كما فهمت من البيتين ؟ ولماذا ؟

٢ ما الجمال فى « نضرة فوق الجباه » ؟

ج حلل كلمة ( الجَبَاهِ ) إلى مقاطع صوتية . / / / /

### السؤال الثاني من نص ( أخط الإنسان ) اقرأ ، ثم أجب :

أخى فى العالم الواسـ  
أخى الأبيض والأسـ  
أمد يـدى فصافحها  
مع فى المغرب والمشرق  
د فى جوهرك المطلق  
تجد قلبى بها يخفق

أ أكمل ما يلى :

١ جمع ( العالم ) : ٢ مضاد ( الأبيض ) : ٣ معنى ( المطلق ) :

ب ما الجمال فى قول الشاعر : « فى المغرب والمشرق » ؟

ج كيف يصبح العالم إذا لم نطبق دعوة الشاعر للإنسان ؟

د اكتب البيت الدال على المعنى التالى :

( إذا تعاوَنَ البشر فى الخير تحولت حياتهم إلى جنة على الأرض ) .

### رابعاً : النحو

« المواطن المصرى محب لوطنه ، ويدافع عنه ضد أى عدوان دفاع الأبطال ، ويبذل الجهد صباحاً ومساءً إعلاءً لشأن بلاده ، وإن الآباء والأمهات يخلصون فى تربية أبنائهم حتى يصبحوا مواطنين صالحين » .

أ أعرب ما تحته خط فى العبارة السابقة .

ب استخرج من الفقرة السابقة :

١ خبراً لمبتدأ ، وبيّن نوعه . ٢ خبراً لفعل ناسخ ، وبيّن نوعه .

٣ خبراً لحرف ناسخ ، وبيّن نوعه . ٤ مفعولاً لأجله .

ج أجب بما هو مطلوب بين القوسين :

١ أبناء مصر متميزون فى كل المجالات . ( حوّل الخبر المفرد إلى جملة فعلية )

٢ المهندسان ماهران . ( أدخل على الجملة فعلاً ناسخاً ، وغير ما يلزم )

### خامساً : الخط

اكتب ما يأتى بخط النسخ مرة ، وبخط الرقعة مرة أخرى : « الأمل غذاء الرُّوح » .

### سادساً : الإملاء

اكتب ما يملى عليك .



# سلاح التلميذ

منذ عام ١٩٦٠

## اللغة العربية

إجابات اختبارات نهاية الفصل الدراسي الأول



2023 - 2022

الصف السادس الابتدائي

6

## إجابة الاختبار ١

### ثانياً : القراءة

القراءة متعددة الموضوعات والقصة

أولاً : من موضوع ( مفتاح النجاح ) :

١ هات :

معنى ( عقبات ) : صعوبات ، مضاد ( يستسلم ) : يواجه .

٢ اختر : ١ نستلم ٢ كل مراحل حياته .

٣ هدف الإنسان النجاح ، ويحتاج إلى مجموعة عناصر للوصول إلى الهدف .

ثانياً : من قصة ( على مبارك ) :

١ هات :

معنى ( ينفر ) : يفر ، مضاد ( أول ) : آخر .

٢ صوب : ناظر المدرسة ( رأفت أفندي ) .

٣ بفضل هذا الناظر الجليل ( رأفت أفندي ) الذي شرح له بطريقة سهلة ، وكان نتيجة ذلك أنه تفوق فيهما وكان أول فرقته .

القراءة متحررة المحتوى :

١ أكمل :

١ جمع ( سبيل ) : سبل . ٢ مفرد ( القلوب ) : القلب .

٣ ضع علامة ( ✓ ) أو ( X ) :

١ ( ✓ ) ٢ ( ✓ )

٣ ليردوا بعض الدّين الذي عليهم نحوها .

### ثالثاً : المحفوظات

أولاً : من نص ( نصائح أب ) :

١ اختر : ١ معنى ( أقلعى ) : لا تمطري .

٢ الجودى : اسم جبل .

٣ مضاد ( غيظ ) : فاض .

٤ أمر الله الأرض أن تبتلع الماء ، وأمر السماء أن تتوقف عن إنزال المطر .

٥ جزاء الكافرين حلول لعنة الله عليهم بالبعد عن رحمته .

٦ صور الأرض بإنسان ينادى ، وفيه تشخيص .

ثانياً : أجب عن سؤال واحد من السؤالين التاليين ( اختياري ) :

السؤال الأول : من نص ( الطماع والدجاجة ) :

١ اختر : ١ معنى ( ظن ) : حسب .

٢ جمع ( سكين ) : سكاكين .

٣ مضاد ( يمينه ) : شماله .

٤ ظن أن فى بطن الدجاجة كنزاً من البيض الذهبى .

٥ أمسك بالدجاجة وشققها نصفين ، وكانت نتيجة فعله

أنه لم يجد فيها شيئاً ، بل وجد بين يديه دجاجة ميتة .

٦ أفادت التأكيد على قلة إدراكه نتيجة ما يفعله .

السؤال الثانى : من نص ( أخى الإنسان ) :

١ تخير : ١ جمع ( الدنيا ) : الدنا .

٢ مضاد ( نسعد ) : نشقى .

٣ معنى ( أحلنا ) : جعلنا .

٤ يدعو إلى الأخوة والتعاون والحب بين البشر .

٥ تعبير جميل ، صور فيه كل البشر إخواناً ؛ بفضل الحب

والتعاون بينهم .

٦ أخى الأبيض والأسو د فى جوهرك المطلق

أمد يدى فصافحها تجد قلبى بها يخفق

### رابعاً : النحو

١ أعرب :

الكلمة	إعرابها
العلماء	مبتدأ مرفوع ، وعلامة رفعه الضمة .
الطريق	مفعول به منصوب ، وعلامة نصبه الفتحة .
قديم	اسم مجرور بـ ( من ) ، وعلامة جره الكسرة .

٢ استخرج :

• خبر لمبتدأ : رجال ، نوعه : مفرد .

• خبراً لفعل ناسخ : يقرن ، نوعه : جملة فعلية .

• خبراً لحرف ناسخ : فلاح ، نوعه : مفرد .

٣ ظل الفلاحون صابرين .

## إجابة الاختبار ٢

### ثانياً : القراءة

القراءة متعددة الموضوعات والقصة :

أولاً : من موضوع ( زيارة ومفاجأة ) :

١ هات : ١ معناها ( أغلب ) : معظم .

٢ مضاد ( نجت ) : أصيبت .

٣ الط / ط / بى / ب

٤ فى منتصف الإجازة الصيفية الماضية .



ثانيًا : من قصة ( على مبارك ) :

- أ) هات : معنى ( حقيرًا ) : **ذليلاً** ، مضاد ( فائدة ) : **ضرر** .  
 ب) ١) على مبارك  
 ٢) الشيخ أحمد أبو خضر .  
 ج) غره المظهر ، وسرعان ما ظهرت له الحقيقة ، فلم يجد في بيت هذا الرجل الهدوء ؛ لأنه كان يموج بالضجة ؛ لكثرة عيال الرجل من زوجاته الثلاث ، كما وجده يُقتر عليه في الطعام ، وفي بعض الليالي كان يبيت جائعاً ، وعندما كان يخرج إلى العمل مع هذا الرجل ، فإنه كان يتخذه خادمًا له ، ولا يعلمه ، وكان يهينه .

القراءة متحررة المحتوى :

- أ) هات : ١) معنى ( تدرك ) : **تعرف** .  
 ٢) مضاد ( الغضب ) : **الرضا** .  
 ب) ضع علامة ( ✓ ) أو ( X ) : ١) ( X ) ٢) ( ✓ )  
 ج) أن تعرف ماذا تقول ومتى تقول .

ثالثًا: المحفوظات

أولاً : من نص ( الدين المعاملة ) :

- أ) هات :  
 معنى ( طاقته ) : **قدرته** ، جمع ( حق ) : **حقوق** ،  
 مضاد ( حجيجه ) : **حليفه ونصيره** .  
 ب) حسن معاملة أهل الكتاب .  
 ج) يكون حجيجه يوم القيامة .  
 د) تعبير يشير إلى أن أساس المعاملة هو الرضا والقبول .

ثانياً: أجب عن سؤال واحد من السؤالين التاليين ( اختياري ) :

السؤال الأول : من نص ( كن قويًا ) :

- أ) ١) معنى ( الوأى الأمين ) : **مصر** .  
 ٢) مفرد ( النائمين ) : **النائم** .  
 ٣) جمع ( العلم ) : **العلوم** .  
 ب) لشباب مصر .  
 ج) تتمنى مصر جيلاً نشيطاً يقظاً قوياً شجاعاً يتمتع بالصحة قادراً على بناء مجدها .  
 د) أمر .

السؤال الثاني : من نص ( الطماع والدجاجة ) :

- أ) أكمل :  
 ١) معنى ( لقيه ) : **المال الكثير الذي يجده الإنسان دون أن يعلم مصدره** .  
 ٢) وجمع ( عظمة ) : **عَظْم** .

٣) ومضاد ( الطمع ) : **القناعة** .

ب) وجدها ميتة مثل بقية الدجاج .

ج) شق الطماع الدجاجة نصفين فلم يجد فيها كنزاً بل

صارت ميتة ، فقال لاثماً نفسه : لا شك أن الطمع ضيع

على الخير الوفير .

د) تعبير جميل يدل على قلة إدراكه لنتيجة ما يفعله .

رابعًا: النحو

أ) أعرب :

الكلمة	إعرابها
الإنسانية	مفعول به منصوب ، وعلامة نصبه الفتحة .
التقدم	مضاف إليه مجرور ، وعلامة جره الكسرة .
تسلحوا	فعل أمر مبني .

ب) استخرج :

- خبراً لفعل ناسخ : **مصابيح** .  
 • مضافاً إليه: **الحياة** .  
 • اسمًا لحرف ناسخ : **العظماء** .  
 ج) الياء .  
 د) صار النابغون مكرمين من الدولة .

### إجابة الاختبار ٣

ثانياً : القراءة

القراءة متعددة الموضوعات والقصة :

أولاً : من موضوع ( المنصور والطيور ) :

- أ) ١) معنى ( عاد ) : **رجع** .  
 ٢) مفرد ( أحوال ) : **حال** .  
 ب) أمره بتفقد أحوال أهل تلك الناحية ، نتيجة ذلك أن عاد الشرطي برجل يردد بين الناس أنه عثر على مبلغ من المال ، ولم يعرف صاحبه .  
 ج) متروكة للتلميذ .

ثانيًا : من قصة ( على مبارك ) :

- أ) أكمل : ١) الشرعى . ٢) برنبال الجديدة .  
 ب) بسبب مشاغله الكثيرة .





- ج) تعبير جميل يدل على المساواة بين بنى البشر ؛ فكلهم لهم أصل واحد .  
د) متروكة للتلميذ .

#### رابعاً : النحو

##### أ) أعرب :

الكلمة	إعرابها
المؤمنين	مضاف إليه مجرور ، وعلامة جره الياء .
القول	اسم مجرور ، وعلامة جره الكسرة .
الإنسان	فاعل مرفوع ، وعلامة رفعه الضمة .
التفوق	اسم يصبح مرفوع ، وعلامة رفعه الضمة .

##### ب) استخراج :

- خبر لمبتدأ : **سبيل** ، نوعه : **مفرد** .
- اسماً لحرف ناسخ : **العدل** .
- خبراً لحرف ناسخ : **من سمات** ، نوعه : **شبه جملة** ( جار مجرور ) .
- ج) نحن صائمون .

## إجابة الاختبار ٤

#### ثانياً : القراءة

القراءة متعددة الموضوعات والقصة :

أولاً : من موضوع ( ذكاء صبي ) :

- أ) هات : مرادف ( تزل ) : **تسقط** ، جمع ( غلام ) : **غلمان** .  
ب) تخير : ١) عمر بن عبد العزيز . ٢) اثنتى عشرة .  
ج) يقعون فى الخطأ وتزل أقدامهم .  
ثانياً : من قصة ( على مبارك ) :

- أ) المتحدث : السجان إلى : صديقه .  
ب) على مبارك .

- ج) اختر : ١) رحيم . ٢) طلب رضا الله .

القراءة متحررة المحتوى :

- أ) هات : ١) معنى ( تساهم فى ) : **تساعد** .  
٢) مفرد ( أنشطة ) : **نشاط** .

- ب) ضع علامة ( ✓ ) أو ( X ) : ١) ( X ) ٢) ( ✓ )  
ج) متروكة للتلميذ .

- ج) لم يجد ما كان يتخيل، فقد وجدها بعيدة كل البعد عما سمع من فراش ( عنبر أفندى ) ؛ حيث كان القائمون على التعليم يؤذون التلاميذ بالضرب والإهانة ، وكانت مفروشاتهم حصر الحلفا ، وأحرمة الصوف الغليظ ، وكان الطعام رديئاً فكرهه ، وكان لا يأكل غير الجبن والزيتون ، فتمنى لو تخلص من هذه المدرسة .

القراءة متحررة المحتوى :

- أ) هات : ١) معنى ( حمى ) : **حفظ** .

- ٢) جمع ( السد ) : **السدود** .

- ب) ضع علامة ( ✓ ) أو ( X ) : ١) ( X ) ٢) ( ✓ )

- ج) يبرهن على أن أبناء مصر قادرون على الإنجاز فى كل العصور .

#### ثالثاً : المحفوظات

أولاً : من نص ( نصائح أب ) :

- أ) اختر : ١) مرادف ( معزل ) : **معزول بعيداً** .

- ٢) مضاد ( الكافرين ) : **المؤمنين** .

- ٣) اركب معنا ( أسلوب : أمر .

- ب) متروكة للتلميذ .

- ج) تعبير جميل يشبه الموج بالجبال ويدل على قوة الأمواج وعلوها .

ثانياً : أجب عن سؤال واحد من السؤالين التاليين :

السؤال الأول : من نص ( كن قوياً ) :

- أ) اختر : ١) معنى ( نضرة ) : **جمالاً** .

- ٢) مضاد ( خائر ) : **قوى** .

- ٣) مفرد ( المستضعفين ) : **المستضعف** .

- ب) إلى شباب العلم فى مصر .

- ج) لا تريد مصر الأبناء الضعفاء ، الذين لا صبر لهم على العمل ؛ لأن الضعفاء محكوم عليهم بالذل والهوان .

- د) صور الشاعر الصحة تاجاً فوق رءوس الأصحاء ، وهو أسلوب أمر للحث والنصح .

السؤال الثانى : من نص ( أخى الإنسان ) :

- أ) اختر : ١) معنى ( نسعد ) : **نفرح** .

- ٢) مضاد ( أحياء ) : **أعداء** .

- ٣) مفرد ( أعوان ) : **عون** .

- ب) إلى العيش مع أخيه الإنسان فى سلام ومحبة ، وأن يتعاون الجميع فيما بينهم فى حب ومودة .





### ثالثاً : المحفوظات

أولاً : من نص ( الدين المعاملة ) :

١ معنى ( بغير طيب نفس ) : بغير رضا منه ، مضاد ( كلفه ) :

أعفاه ، جمع ( حجيج ) : أحجَّاء .

٢ إلى حسن معاملة أهل الكتاب .

٣ بغير طيب نفس .

٤ انتقاص حقوقه .

٥ تحميله أعباء فوق قدرته .

٦ أخذ شيء منه دون رضاه .

ثانياً : أجب عن سؤال واحد من السؤالين التاليين :

السؤال الأول : من نص ( الطماع والدجاجة ) :

١ اختر : ١ جمع ( كنز ) : كنوز .

٢ مرادف ( غفلته ) : قلة إدراكه .

٣ مضاد ( البخيل ) : الكريم .

٤ متروكة للتلميذ .

٥ صور الدجاجة شخصاً يمد يد العون لصاحبه

ويجعله غنياً .

السؤال الثاني : من نص ( أخى الإنسان ) :

١ هات :

• معنى ( جوهرك ) : أساسك .

• مضاد ( المغرب ) : المشرق .

• جمع ( المشرق ) : المشارق .

٢ أخى فى العالم الواسع - مع فى المغرب والمشرق

٣ استخدم الشاعر هذه الكلمة ؛ ليدلل على المبدأ العام

والشامل ، الذى اتخذه من حيث المساواة بين بنى البشر .

٤ متروكة للتلميذ .

### رابعاً : النحو

١ أعرب :

الكلمة	إعرابها
تقديم	مبتدأ مرفوع ، وعلامة رفعه الضمة .
الناس	اسم ليت منصوب ، وعلامة نصبه الفتحة .
العمل	مضاف إليه مجرور ، وعلامة جره الكسرة .
أملاً	مفعول لأجله منصوب ، وعلامة نصبه الفتحة .

٢ استخرج :

١ خبر لحرف ناسخ : يدركون ، نوعه : جملة فعلية .

٢ خبراً لمبتدأ : عمل ، نوعه : مفرد .

٣ فعلاً ناسخاً : يكون . ٤ مفعولاً به : قيمة .

٥ أجب :

١ إن الناجحين ماهرون . ٢ لعل القادرين رحماء .

### إجابة الاختبار ٥

#### ثانياً : القراءة

القراءة متعددة الموضوعات والقصة :

أولاً : من موضوع ( يوم لا ينسى ) :

١ استخرج :

معنى ( نجم ) : نزين ، مضاد ( حزيناً ) : فرحاً .

٢ اقترحوا أن يزينوا الفصل بشرائط ملونة ، ويكتبوا لوحة

ترحيب بها .

٣ • اسد / تق / با / ل / ها • م / لو / و / ن / ة

ثانياً : من قصة ( على مبارك ) :

١ اختر : ١ أحمد أبو خضر . ٢ استولى عليه الخوف .

٢ كاشر الوجه ، قاسى الطبع ، بجانبه عصا غليظة يهوى بها

على جسد الأولاد لأتفه الأسباب .

٣ متروك للتلميذ .

القراءة متحررة المحتوى :

١ هات : ١ مرادف ( الوفير ) : الكثير .

٢ مفرد ( السنين ) : السنة .

٣ ضع علامة ( ✓ ) أو ( X ) : ١ ( ✓ ) ٢ ( X )

٤ متروك للتلميذ .

#### ثالثاً : المحفوظات

أولاً : من نص ( نصائح أب ) :

١ اختر :

١ مضاد ( يعصمنى ) : يهلكنى .

٢ تفسير كلمة ( عاصم ) : حافظ .

٣ مفرد ( المغرقين ) : المغرق .

٤ قال : سألجأ إلى جبل يحمينى من الماء .

٥ احتمى بالجبل ليعصمه من الماء ، وكانت عاقبته الغرق مع

الكافرين .

٦ صور السماء بإنسان ينادى ، وفيه تشخيص .



ثانيًا : أجب عن سؤال واحد من السؤالين التاليين :

السؤال الأول : من نص ( كن قويًا ) :

أ) اكتب : ١) معنى ( عنوان الحياة ) : أساس الحياة .

٢) مفرد ( العالمين ) : العالم .

٣) مضاد ( الصحة ) : المرض .

ب) ١) أن ينشروا الوعي الصحى بين الناس ، لكى يسعد

الناس فى حياتهم، وترتسم البسمة فوق شفاههم .

٢) تعبير جميل يصور الصحة بالتاج .

ج) الـ / جـ / با / هـ

السؤال الثانى : من نص ( أخى الإنسان ) :

أ) أكمل : ١) جمع ( العالم ) : العوالم .

٢) مضاد ( الأبيض ) : الأسود .

٣) معنى ( المطلق ) : الشامل .

ب) ١) تعبير جميل؛ حيث ذكر فيه الشاعر لفظين متقابلين؛

للدلالة على أنه يخاطب جميع بنى الإنسان ، دون

تفرقة أو تمييز .

٢) ستنتشر الكراهية بين الناس، وتتفكك المجتمعات .

ج) ولو شئنا أكلنا جنة الفردوس دنيانا

## رابعًا : النحو

أ) أعرب :

الكلمة	إعرابها
المواطن	مبتدأ مرفوع ، وعلامة رفعه الضمة .
دفاع	مفعول مطلق منصوب ، وعلامة نصبه الفتحة .
صباحًا	ظرف زمان منصوب ، وعلامة نصبه الفتحة .
لشأن	اللام حرف جر ، وشأن اسم مجرور ، وعلامة جره الكسرة .

ب) استخراج :

١) خبرًا لمبتدأ : محب ، نوعه : مفرد .

٢) خبرًا لفعل ناسخ : مواطنين ، نوعه : مفرد .

٣) خبرًا لحرف ناسخ : يخلصون ، نوعه : جملة فعلية .

٤) إعلاء .

ج) ١) أبناء مصر يتميزون فى كل المجالات .

٢) صار المهندس ماهرين .



# سلاح التلميذ

منذ عام ١٩٦٠

## الرياضيات

اختبارات نهاية الفصل الدراسي الأول



2023 - 2022

الصف السادس الابتدائي

6

(١٤ درجة)

السؤال الأول اختر الإجابة الصحيحة من بين الإجابات المعطاة:

- ١ النسبة بين محيط المربع وطول ضلعه = ..... : .....  
 أ ٤ : ١ ب ١ : ٣ ج ٣ : ١ د ١ : ٤
- ٢ إذا كان:  $\frac{س}{٨} = ٢٥\%$  فإن قيمة س = .....  
 أ ١ ب ٢ ج ٣ د ٤
- ٣ القطران متعامدان ، وينصف كلُّ منهما الآخر في كلِّ من .....  
 أ المربع والمعين ج المستطيل وشبه المنحرف  
 ب المعين والمستطيل د المربع والمستطيل
- ٤ سلعة في محل ملابس ثمنها ٢٤٠ جنيهاً ، إذا كان عليها خصم ٢٥٪ فإن ثمنها بعد الخصم = ..... جنيهاً .  
 أ ٢٠٠ ب ١٨٠ ج ١٥٠ د ١٢٠
- ٥ متوازي الأضلاع الذى إحدى زواياه قائمة يُسمَّى .....  
 أ معيناً ب مستطيلاً ج مثلثاً د شبه منحرف
- ٦ جميع البيانات التالية وصفية ما عدا .....  
 أ العُمُر ب مكان الميلاد ج فصيلة الدم د اللون
- ٧ مكعب طول حرفه ٤ سم ، فإن حجمه = ..... سم³.  
 أ ٤ ب ١٦ ج ٦٤ د ١٠٠
- ٨ ٣٠٠ جرام : ١,٥ كجم = ..... : .....  
 أ ٣ : ١ ب ٥ : ١ ج ١٠ : ١ د ١ : ١٠
- ٩ إذا كان:  $\frac{س}{٥} = \frac{٢}{١٥}$  ، فإن قيمة س = .....  
 أ ٢ ب ٥ ج ٦ د ١٥
- ١٠ المدى لمجموعة القيم ( ١٠ ، ٨ ، ١٧ ، ٩ ) هو .....  
 أ ١٠ ب ٥ ج ٨ د ٩
- ١١ ٣٥ لترًا = ..... ديسم³.  
 أ ٣٥٠٠ ب ٣٥٠ ج ٣٥٠٠ د ٣٥
- ١٢ يشرب حازم ٢١ كوبًا من اللبن أسبوعيًا ، فإن معدل ما يشربه يوميًا = ..... أكواب / يوم  
 أ ٣ ب ٧ ج ١٤ د ٢٨
- ١٣ إذا كان أ : ب = ٣ : ٢ ، ب : ح = ٥ : ٣ ، فإن أ : ح = ..... : .....  
 أ ٢ : ٥ ب ٥ : ٢ ج ١ : ١ د ٥ : ٣
- ١٤ إذا كان الطول فى الرسم ٣ سم ، والطول الحقيقى ٦٠ مترًا ، فإن مقياس الرسم = ..... : .....  
 أ ٣٠٠ : ١ ب ١ : ٣٠٠ ج ٢٠٠ : ١ د ٢٠٠٠ : ١



## السؤال الثانى أكمل ما يلى:

( ٨ درجات )

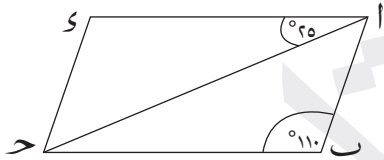
- ١٥) النسبة بين محيط الدائرة إلى طول قطرها = ..... : .....
- ١٦) إذا كانت: ٤ ، س ، ١٢ ، ١٨ كميات متناسبة ، فإن قيمة س = .....
- ١٧) إذا كان مقياس الرسم  $< ١$  ، فإنه يدل على .....
- ١٨) ٤٨ لترًا = ..... مليلتر.
- ١٩) إذا كان حجم متوازي مستطيلات ٦٤ سم<sup>٣</sup> ، ومساحة قاعدته ١٦ سم<sup>٢</sup> ، فإن ارتفاعه = ..... سم.
- ٢٠) مكان الميلاد من البيانات الإحصائية .....

## السؤال الثالث أجب عما يلى:

( ٨ درجات )

- ٢١) اشترك كل من مهند و خالد ومحمود فى تجارة ، فدفع مهند مبلغ ٣٥٠٠ جنيه ، ودفع خالد ٤٥٠٠ جنيه ، ودفع محمود ٢٠٠٠ جنيه ، وفى آخر العام بلغت الأرباح ٤٠٠٠ جنيه. أوجد نصيب محمود من الأرباح.

- ٢٢) طابعة كمبيوتر تطبع ١٢ ورقة كل أربع دقائق. احسب معدل عمل هذه الطابعة.



- ٢٣) فى الشكل المقابل:

أ ب ح د متوازي أضلاع فيه:  $\angle ب = ١١٠^\circ$  ،

و  $\angle د ا ح = ٢٥^\circ$  أوجد:

أ)  $\angle د$  و ب)  $\angle ا ح د$

- ٢٤) الجدول التالى يُبين درجات ٥٠ تلميذًا فى مادة الرياضيات:

الدرجة	- ١٠	- ٢٠	- ٣٠	٤٠ - ٥٠	المجموع
عدد التلاميذ	٥	١٥	٢٥	٥	٥٠

ارسم المنحنى التكرارى لهذه البيانات.



(١٤ درجة)

السؤال الأول اختر الإجابة الصحيحة من بين الإجابات المعطاة:

- ١)  $\frac{1}{4}$  ساعة : ٣٦ دقيقة = ..... : .....
- أ ٧٢ : ١      ب ١ : ٧٢      ج ٥ : ٦      د ٦ : ٥
- ٢) السرعة المتوسطة لسيارة قطعت ١٧١ كم في ٣ ساعات هي ..... كم / ساعة
- أ ٦٧      ب ٧٦      ج ٨٦      د ٥٧
- ٣) مكعب حجمه ١٢٥ سم<sup>٣</sup> ، فإن مساحة قاعدته = ..... سم<sup>٢</sup>.
- أ ٥      ب ٢٠      ج ٢٥      د ١٠
- ٤) إذا كان أ : ب = ٥٠٪ فإن ب : أ = ..... ٪
- أ ٢٠٠      ب ٤٠٠      ج ٥٠      د ٢٥
- ٥) إذا كان الطول الحقيقي ٧ أمتار ، والطول فى الرسم ٧ سم ، فإن مقياس الرسم = .....
- أ ١٠ : ١      ب ١ : ١٠٠      ج ١ : ١٠٠٠      د ٦ : ١
- ٦) إذا كان عدد المجموعات ٦ ، وطول المجموعة ٢ ، فإن المدى = .....
- أ ٤      ب ٨      ج ١٢      د ٦
- ٧) الحرف فى المكعب هو قطعة مستقيمة ناتجة من تقاطع .....
- أ رأسين      ب حرفين      ج وجهين      د غير ذلك
- ٨)  $١ - ٥٥\% = \dots\dots\dots\%$
- أ ٤٥      ب ٥٠      ج ٧٥      د ١٠٠
- ٩) إذا كانت الأعداد ٣ ، ٥ ، س ، ٢٠ أعدادًا متناسبة ، فإن س = .....
- أ ٦      ب ١٢      ج ١٥      د ٢١
- ١٠) البيانات التالية كمية ما عدا .....
- أ العمر      ب الطول      ج فصيلة الدم      د الوزن
- ١١) ٧٠٠٠ مليلتر = ..... لتر.
- أ ٧٠٠٠      ب ٧٠٠      ج ٧٠      د ٧
- ١٢) النسبة بين ١٨ ساعة : يوم واحد = ..... : .....
- أ ١ : ١٨      ب ٢ : ٣      ج ٣ : ٤      د ٤ : ٣
- ١٣) متوازي الأضلاع الذى قطراه متعامدان وغير متساويين فى الطول يُسمى .....
- أ معيناً      ب مستطيلاً      ج مثلثاً      د شبه منحرف
- ١٤) إذا كان أ : ب = ٣ : ٢ ، ب : ح = ٢ : ٥ فإن أ : ح = ..... : .....
- أ ٢ : ١٥      ب ٣ : ١٤      ج ٥ : ١٢      د ٤ : ١٥



## السؤال الثانى

أكمل ما يلى:

(٨ درجات)

١٥ يصرف حسن ٤٥ جنيهًا فى ثلاثة أيام ، فإن مُعدّل ما يصرفه حسن فى اليوم الواحد = ..... جنيهًا / يوم

١٦ فى إحدى المدارس بلغ عدد التلاميذ ٥٦٠ تلميذًا ، فإذا كان عدد البنات  $\frac{3}{5}$  عدد البنين ، فإن عدد البنات = .....

١٧ مكعب مجموع أطوال أحرفه ٦٠ سم يكون حجمه = ..... سم<sup>٣</sup>.

١٨ ٢,٦٥ لتر = ..... سم<sup>٣</sup>.

١٩ (العُمر ، الوزن ، الأكل المفضل) جميعها بيانات كمية ما عدا .....

٢٠  $\frac{1}{3} : \frac{1}{4} : \frac{1}{6}$  = ..... : ..... : ..... (فى أبسط صورة)

## السؤال الثالث

أجب عما يلى:

(٨ درجات)

٢١ احسب ثمن البيع لثلاثة تم شراؤها بمبلغ ٧٢٠٠ جنيه ، وكانت نسبة المكسب ١٢٪

.....  
.....

٢٢ إذا كان مقياس الرسم لخريطة هو ١ : ٥٠٠٠٠٠ ، وكان البُعد بين المدينتين على هذه الخريطة ٣ سم ،

فأوجد البُعد الحقيقى بينهما بالكيلومترات.

.....  
.....

٢٣ فى الشكل المقابل:



أب ح د متوازي أضلاع ،

أوجد  $\angle$  (د).

٢٤ الجدول التالى يُبيّن عدد الساعات التى يقضيها ٣٠ تلميذًا فى استذكار دروسهم يوميًا:

المجموعات	- ١	- ٢	- ٣	- ٤ - ٥	المجموع
التكرار	٤	٨	١٢	٦	٣٠

مثّل البيانات السابقة باستخدام المنحنى التكرارى .



(١٤ درجة)

اختر الإجابة الصحيحة من بين الإجابات المعطاة:

السؤال الأول

- ١)  $\frac{3}{4} = 1 \frac{3}{4} \%$  .....  
 أ ٢٥ ب ٥٠ ج ٧٥ د ١٧٥
- ٢) فصل دراسي به ٤٠ تلميذاً ، غاب منهم ٨ تلاميذ ، فإن النسبة المئوية للحاضرين = ..... %  
 أ ٢٠ ب ٥٠ ج ٨٠ د ٣٢
- ٣) في متوازي الأضلاع مجموع قياس كل زاويتين متتاليتين يساوى .....  
 أ ٩٠° ب ١٢٠° ج ١٨٠° د ١٥٠°
- ٤) إذا كان ثمن سلعة ما فى محل ملابس ٢٤٠ جنيهاً ، وأصبح سعرها أثناء الأوكازيون ١٨٠ جنيهاً ، فإن النسبة المئوية للتخفيض = ..... %  
 أ ٢٥ ب ٦٠ ج ٣٠ د ٧٥
- ٥) متوازي مستطيلات مساحة قاعدته ٢٠ سم<sup>٢</sup> ، وارتفاعه ٦ سم ، فإن حجمه = ..... سم<sup>٣</sup>.  
 أ ١٢٠ ب ١٤ ج ٢٦ د ٢
- ٦) إذا كانت بداية المجموعة ١٠ ونهايتها ٢٠ ، فإن مركز المجموعة = .....  
 أ ١٥ ب ١٧ ج ٣٠ د ١٢
- ٧) المتر المكعب من وحدات قياس .....  
 أ المحيط ب المساحة ج الحجم د الطول
- ٨)  $30\% + 55\% + 1\% = \dots\%$   
 أ ٢٠ ب ٥ ج ١٥ د ٢٥
- ٩) وُزِعَ مبلغ ٦٠ جنيهاً بين شخصين بنسبة ٥ : ٧ ، فإن نصيب الأول = ..... جنيهاً.  
 أ ٢٥ ب ٣٥ ج ١٢ د ٣٠
- ١٠) المدى لمجموعة القيم (٧ ، ٣ ، ٦ ، ٩ ، ٥) = .....  
 أ ٤ ب ٢ ج ٦ د ١٢
- ١١) ٥٠٠ لتر = ..... م<sup>٣</sup>.  
 أ ٥٠٠ ب ٥٠٠ ج ٥٠ د ٥
- ١٢) النسبة بين طول ضلع المربع ومحيطه = ..... : .....  
 أ ٣ : ١ ب ٤ : ١ ج ١ : ٤ د ٣ : ٢
- ١٣) إذا كانت النسبة بين ارتفاعات ثلاث عمارات هي ٣ : ٤ : ٥ ، وكان ارتفاع العمارة الأولى هو ١٢ متراً ، فإن ارتفاع العمارة الثالثة هو ..... متراً.  
 أ ١٦ ب ٢٠ ج ٣٠ د ١٧
- ١٤) قيمة س لى تكون الأعداد التالية متناسبة ٦ ، ٨ ، ٣ ، س هى .....  
 أ ٤ ب ٥ ج ٦ د ٧





## السؤال الثانى أكمل ما يلى:

(٨ درجات)

- ١٥) النسبة بين العددين ٨ : ١٢ = ..... : .....
- ١٦) التناسب هو تساوى ..... أو أكثر.
- ١٧) الأضلاع الأربعة متساوية فى الطول فى كلٍّ من .....
- ١٨) إذا كان مقياس الرسم  $1 >$  ، فإنه يدل على .....
- ١٩) متوازي مستطيلات أبعاده ٦ سم ، ٤ سم ، ٣ سم ، فإن حجمه = .....
- ٢٠) الأكل المفضل من البيانات .....

## السؤال الثالث أجب عما يلى:

(٨ درجات)

- ٢١) إذا كانت النسبة بين وزن هانى ووزن أحمد ٥ : ٦ ، وكان وزن أحمد ٦٠ كيلوجرامًا ، احسب وزن هانى.

- ٢٢) أودعت سارة مبلغ ٩٠٠٠ جنيه فى أحد البنوك ، وكانت نسبة الفائدة ١٠٪ فى السنة ، احسب إجمالى المبلغ فى نهاية السنة.



- ٢٣) فى الشكل المقابل:

أ) حـ متوازي أضلاع ، فيه : حـ = ٦ سم ،

بـ حـ = ٨ سم ، و (أ > ب) = ٦٠° ، أوجد :

أ) و (ب > أ) ب طول أو

- ٢٤) الجدول التالى يوضح درجات ٤٠ تلميذاً فى أحد الاختبارات بأحد الفصول الدراسية:

المجموعات	- ١٠	- ٢٠	- ٣٠	- ٤٠	- ٥٠	المجموع
التكرار	٤	٨	١٤	٨	٦	٤٠

ارسم المنحنى التكرارى للجدول السابق.



(١٤ درجة)

السؤال الأول اختر الإجابة الصحيحة من بين الإجابات المعطاة:

- ١ النسبة بين ٥٠٠٠ جرام و ٨ كيلوجرامات = ..... : .....  
 أ ٨ : ٥ ب ٥ : ٨ ج ١٣ : ٥ د ٣ : ١
- ٢ إذا كان:  $\frac{6}{36} = \frac{س}{١٢}$  ، فإن قيمة س = .....  
 أ ٣ ب ٢ ج ٤ د ٨
- ٣ النسبة بين طول ضلع المعين ومحيطه = ..... : .....  
 أ ١ : ٤ ب ١ : ٣ ج ٤ : ١ د ٣ : ١
- ٤ مجموع قياسى زاويتين متتاليتين فى متوازى الأضلاع = .....  
 أ ٩٠° ب ١٨٠° ج ٢٧٠° د ٣٦٠°
- ٥ ١ - ٣٧,٥ % = ..... %  
 أ ١٢,٥ ب ٣٧,٥ ج ٦٢,٥ د ٥٠
- ٦ البيانات المقابلة جميعها كمّية ما عدا .....  
 أ الطول ب العمر ج عدد الأبناء د الأكلة المفضلة
- ٧ القطران متعامدان فى .....  
 أ شبه المنحرف ب المستطيل ج متوازى الأضلاع د المعين
- ٨ إذا كان أ : ب = ٢ : ١ ، ب : ح = ٥ : ٣ ، فإن أ : ح = .....  
 أ ١٠ : ١ ب ١٠ : ٣ ج ٥ : ٢ د ٣ : ١
- ٩ المدى لمجموعة القيم ٥٠ ، ٢٥ ، ٣٥ ، ٢٠ هو .....  
 أ ١٠ ب ٢٠ ج ٣٠ د ٢٥
- ١٠ النسبة المئوية هى نسبة حدها الثانى يكون .....  
 أ ١٠ ب ١٠٠ ج ١٠٠٠ د ١٠٠٠٠
- ١١ يصرف حسن ٤٥ جنيهاً فى ٣ أيام ، فإن معدل ما يصرفه فى اليوم الواحد = ..... جنيهاً / يوم  
 أ ١٣٥ ب ١٥ ج ١٥٣ د ٥١
- ١٢ ١٥٠ ديسم ٣ = ..... سم.  
 أ ١٥٠٠٠ ب ١٥٠٠٠٠ ج ١٥٠ د ١٥٠٠
- ١٣ إذا كان الطول فى الرسم ٦ سم ، والطول الحقيقى ٦٠ مترًا ؛ فإن مقياس الرسم = ..... : .....  
 أ ٣٠٠ : ١ ب ١ : ٣٠٠ ج ١ : ٢٠٠ د ١٠٠٠ : ١
- ١٤ إذا كان حجم متوازى المستطيلات ٤٠٠ سم<sup>٣</sup> ، وبُعْد قاعدته ١٠ سم ، ٥ سم ، فإن ارتفاعه يساوى ..... سم.  
 أ ٤ ب ٥ ج ٧ د ٨



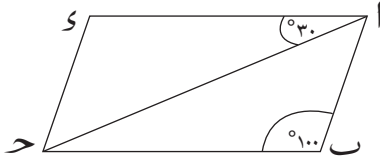
## السؤال الثانى أكمل ما يلى:

( ٨ درجات )

- ١٥  $\frac{1}{2} : \frac{1}{3} = \dots : \dots$
- ١٦ عدد المجموعات = المدى ÷ .....
- ١٧ حجم المكعب الذى طول حرفه ١٠ سم = ..... سم<sup>٣</sup>.
- ١٨ إذا كانت الأعداد (٤ ، س ، ١٢ ، ١٨) متناسبة ، فإن قيمة س = .....
- ١٩ فصل دراسى به ٥٠ تلميذاً ، اشترك منهم ٤٠ تلميذاً فى رحلة مدرسية ، فإن النسبة المئوية للمشاركين فى الرحلة = .....
- ٢٠ ٣ لترات = ..... سم<sup>٣</sup>.

## السؤال الثالث أجب عما يلى:

( ٨ درجات )



- ٢١ أ ب ح د متوازي أضلاع ، فيه و (ب > ) = ١٠٠° ،  
و (د > ا ح) = ٣٠° ، أوجد:  
أ و (د > )  
ب و (د > ا ح)
- ٢٢ اشترك اثنان فى تجارة ، دفع الأول ٥٠٠٠ جنيه ، ودفع الثانى ٨٠٠٠ جنيه ، وفى نهاية العام بلغ صافى المكسب ٣٩٠٠ جنيه.  
احسب نصيب كل منهما من المكسب.

- ٢٣ اشترى تاجر ثلاثة بمبلغ ٨٠٠٠ جنيه ، ثم باعها بمكسب ١٠٪ أوجد ثمن البيع.

- ٢٤ الجدول التالى يبين أعمار ٢٠ فرداً من زوار معرض الكتاب فى أحد الأيام:

العمر	- ١٠	- ٢٠	- ٣٠	- ٤٠	المجموع
عدد الزوار	٣	٥	٧	٥	٢٠

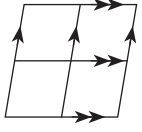
ارسم المنحنى التكرارى لهذا التوزيع.



(١٤ درجة)

اختر الإجابة الصحيحة من بين الإجابات المعطاة:

السؤال الأول



١ في الشكل المقابل: أكبر عدد من متوازيات الأضلاع التي يمكن الحصول عليها يساوي .....

- أ ٤      ب ٦      ج ٥      د ٩

٢ من البيانات الكمية .....

- أ العمر      ب العنوان      ج الاسم      د الجنسية

٣ النسبة بين ١٢ ساعة : يومين = ..... :

- أ ٣ : ٢      ب ١ : ٤      ج ١ : ٢      د ٣ : ٢

٤ جرار زراعي يحرق ٨ أفدنة في ٤ ساعات ، فإن معدل الأداء لهذه الآلة = ..... فدان / ساعة

- أ ٥      ب ٤      ج ٢      د ١

٥ ٢٥ لترًا = ..... مليلتر.

- أ ٢٥      ب ٢٥٠      ج ٢٥٠٠      د ٢٥٠٠٠

٦ مكعب حجمه ١٢٥ سم<sup>٣</sup> ، فإن مساحة قاعدته = ..... سم<sup>٢</sup>.

- أ ٥      ب ٢٠      ج ٢٥      د ١٠

٧  $\frac{3}{5} = \frac{...}{5}$  %

- أ ٤٠      ب ٥٠      ج ٦٠      د ٧٠

٨ النسبة بين ١٢ قيراطًا : ١ فدان = ..... :

- أ ٤ : ١      ب ١ : ٤      ج ١ : ٢      د ٢ : ١

٩ من وحدات قياس الحجم .....

- أ م      ب ديسم      ج م<sup>٢</sup>      د ديسم<sup>٣</sup>

١٠ إذا كانت النسبة بين عُمر طفل إلى عُمر أبيه تُساوي ٢ : ١٣ ، فإذا كان عُمر الطفل ٦ سنوات ، فإن عُمر أبيه = ..... سنة.

- أ ١٢      ب ٣٩      ج ٢٦      د ٤٩

١١ الثاني المتناسب للأعداد ٦ ٦ ١٨ ١٥ ٦ هو .....

- أ ٥٤      ب ٧      ج ٥      د ٧٠

١٢ في حالة التناسب يكون حاصل ضرب الطرفين ..... حاصل ضرب الوسطين.

- أ <      ب >      ج =      د غير ذلك

١٣ المدى لمجموعة القيم (٧ ٢٠ ٦ ١٠ ٦ ٣) = .....

- أ ٤      ب ٥      ج ١٠      د ١٧



١٤) ثلاثة ثمنها ٥٠٠٠ جنيه ، تم خصم ١٠ ٪ من ثمنها ، فإن ثمن الثلاثة بعد الخصم = ..... جنيهاً.

د ٤٩٩٠

ج ٤٥٠٠

ب ٤٩٥٠

أ ٥١٠٠

( ٨ درجات )

السؤال الثاني أكمل ما يلي:

١٥) حجم متوازي المستطيلات = مساحة القاعدة  $\times$  .....

١٦) تنقسم أنواع البيانات الإحصائية إلى : ..... ، .....

١٧) إذا كان:  $\frac{4}{9} = \frac{12}{س}$  ، فإن: س + ٢ = .....

١٨) إنشاء على شكل مكعب طول حرفه ٢٠ سم ، فإن سعته تساوي ..... لترات.

١٩) إذا كان أ : ب = ١ : ٢ ، ب : ح = ٣ : ٤ ، فإن أ : ح = ..... :

٢٠) ٣٠ ٪ من ٢٠٠ = .....

( ٨ درجات )

السؤال الثالث أجب عما يلي:

٢١) إذا كان طول قناة السويس على خريطة مقياس رسمها ١ : ١١٠٠٠٠٠ هو ١٥ سم

فأوجد طولها الحقيقي بالكيلومتر.

٢٢) مثلث النسبة بين قياسات زواياه ٤ : ٣ : ٢ أوجد قياس أكبر زاوية من زواياه.

٢٣) مكعب طول حرفه ١٢ سم ، يُراد صهره وتحويله إلى سبائك على شكل متوازي مستطيلات ، وإذا كانت أبعاد السبيكة

الواحدة ٦ سم ، ٤ سم ، ٣ سم. احسب عدد السبائك التي يمكن الحصول عليها.

٢٤) الجدول التالي يُبين درجات ١٠٠ تلميذ في أحد الشهور في مادة الرياضيات:

الدرجة	١٠ -	٢٠ -	٣٠ -	٤٠ -	المجموع
عدد التلاميذ	١٥	٣٠	٤٠	١٥	١٠٠

ارسم المنحنى التكرارى لهذا التوزيع.



# سلاح التلميذ

منذ عام ١٩٦٠

## الرياضيات

الإجابات النموذجية لاختبارات  
نهاية الفصل الدراسي الأول



الصف السادس الابتدائي 2022 - 2023

6

# إجابة الاختبار ١

## السؤال الأول:

- ١ ١:٤
- ٢ ٢
- ٣ المربع والمعين
- ٤ ١٨٠
- ٥ مستطيلاً
- ٦ العمر
- ٧ ٦٤
- ٨ ٥:١
- ٩ ٦
- ١٠ ٩
- ١١ ٣٥
- ١٢ ٣
- ١٣ ٥:٢
- ١٤ ٢٠٠:١

## السؤال الثاني:

- ١٥ ١:π
- ١٦ التكبير
- ١٧ ٤٨٠٠٠
- ١٨ ٦
- ١٩ ٤
- ٢٠ الوصفية

## السؤال الثالث:

- ٢١ نصيب محمود من الأرباح = ٨٠٠ جنيه.
- ٢٢ ٣ ورقات / دقيقة
- ٢٣ ١ و (٤) = ١١٠°
- ٢٤ ارسم بنفسك.
- ٢٥ ب و (٤ | ا ح د) = ٤٥°



## إجابة الاختبار ٣

### السؤال الأول:

- ١ ٦ : ٥  
٣ ٢٥  
٥ ١٠٠ : ١  
٧ وجهين  
٩ ١٢  
١١ ٧  
١٣ معيناً  
٢ ٥٧  
٤ ٢٠٠  
٦ ١٢  
٨ ٤٥  
١٠ فصيلة الدم  
١٢ ٤ : ٣  
١٤ ٤ : ١٥

### السؤال الثاني:

- ١٥ ١٥  
١٧ ١٢٥  
١٩ الأكل المفضل  
١٦ ٢١٠ بنات  
١٨ ٢٦٥٠  
٢٠ ٤ : ٣ : ٦

### السؤال الثالث:

- ٢١ ثمن بيع التلاجة =  $\frac{112 \times 7200}{100} = 8064$  جنيهاً.  
٢٢ البعد الحقيقي بين المدينتين =  $\frac{50000 \times 3}{1} = 150000$  سم = ١٥ كيلومتراً.  
٢٣ و ( > ) = ١٠٠°  
٢٤ ارسم بنفسك.





## إجابة الاختبار ٣

### السؤال الأول:

- ١ ١٧٥  
٣ ١٨٠°  
٥ ١٢٠  
٧ الحجم  
٩ ٢٥  
١١ ٥  
١٣ ٢٠  
٢ ٨٠  
٤ ٢٥  
٦ ١٥  
٨ ١٥  
١٠ ٦  
١٢ ٤ : ١  
١٤ ٤

### السؤال الثاني:

- ١٥ ٣ : ٢  
١٧ المربع ، المعين  
١٩ ٧٢ سم<sup>٢</sup>  
١٦ نسبتين  
١٨ تصغير  
٢٠ الوصفية

### السؤال الثالث:

- ٢١ وزن هانى =  $\frac{٦٠ \times ٥}{٦} = ٥٠$  كيلوجرامًا.  
٢٢ إجمالى المبلغ فى نهاية السنة =  $\frac{\frac{١١٠}{١٠٠} \times ٩٩٠٠}{\frac{١١٠}{١٠٠}} = ٩٩٠٠$  جنيه.  
٢٣ أ (ب) = ١٢٠°  
٢٤ ارسم بنفسك.

ب طول آر = ٨ سم



## إجابة الاختبار ٤

### السؤال الأول:

- ١ ٨ : ٥  
٢ ٣  
٣ ٤ : ١  
٤ ٦٢,٥  
٥ المعين  
٦ ١٠ : ٣  
٧ ١٠٠  
٨ ١٥٠٠٠  
٩ ١٠٠٠ : ١  
١٠ ٨  
١١ ١٥٠٠٠  
١٢ ٨  
١٣ ١٠٠٠ : ١  
١٤ ٨

### السؤال الثاني:

- ١٥ ٢ : ٣  
١٦ ١٠٠٠  
١٧ ٨٠ %  
١٨ ٦  
١٩ ٣٠٠٠  
٢٠ ٨٠ %

### السؤال الثالث:

- ٢١ أ و (٤) = ١٠٠°  
٢٢ نصيب الأول =  $\frac{٣٩٠٠ \times ٥}{١٣} = ١٥٠٠$  جنيه. ٢ نصيب الثاني =  $\frac{٣٩٠٠ \times ٨}{١٣} = ٢٤٠٠$  جنيه.  
٢٣ ثمن البيع =  $\frac{١١٠ \times ٨٠٠٠}{١٠٠} = ٨٨٠٠$  جنيه.  
٢٤ ارسم بنفسك.



## إجابة الاختبار ٥

### السؤال الأول:

- ١ ٩  
٣ ٤:١  
٥ ٢٥٠٠  
٧ ٦٠  
٩ ديسم<sup>٢</sup>  
١١ ٥  
١٣ ١٧  
٢ العمر  
٤ ٢  
٦ ٢٥  
٨ ٢:١  
١٠ ٣٩  
١٢ =  
١٤ ٤٥٠٠

### السؤال الثاني:

- ١٥ الارتفاع  
١٧ ٢٠  
١٩ ٨:٣  
١٦ كمية ، وصفية  
١٨ ٨  
٢٠ ٦٠

### السؤال الثالث:

- ٢١ الطول الحقيقي =  $\frac{١١٠٠٠٠ \times ١٥}{١٠٠٠٠٠} = ١٦٥$  كيلومتراً.  
٢٢ قياس أكبر زاوية من زوايا المثلث =  $\frac{١٨٠ \times ٤}{٩} = ٨٠^\circ$   
٢٣ عدد السبائك التي يمكن الحصول عليها =  $\frac{١٢ \times ١٢ \times ١٢}{٣ \times ٤ \times ٦} = ٢٤$  سبيكة.  
٢٤ ارسم بنفسك.



# سلاح التليين

منذ عام ١٩٦٠

## العلوم

اختبارات نهاية الفصل الدراسي الأول



2023 - 2022

الصف السادس الابتدائي

6

## السؤال الأول

## (أ) أكمل الجمل التالية:

- ① عند تفاعل غاز النيتروجين مع الأكسجين أثناء حدوث البرق، تتكوّن .....
- ② يبدأ تدريج الترمومتر الطبّي من درجة حرارة .....
- ③ تقاس كتلة الفاكهة بوحدة .....
- ④ يُحاط ..... الخلية العصبية بغلاف دهني.

## (ب) ماذا يحدث عند؟:

- ① وضع مسمار مُبلّل بالماء عدة أيام في جوّ رطب.
- ② تعرّض الإنسان للضوضاء باستمرار.

## السؤال الثاني

## (أ) اختر الإجابة الصحيحة:

- ① إذا كان وزن جسم على سطح الأرض ٦٠٠ نيوتن؛ فإن وزنه على سطح القمر يكون .....  
 أ ٦٠٠ نيوتن      ب ١٠٠ نيوتن      ج ٦٠٠ كجم      د ١٠٠ كجم
- ② يُعتبر ..... من أفضل المعادن في توصيل الحرارة.  
 أ الكبريت      ب الألومنيوم      ج النحاس      د الحديد
- ③ الجزء المسئول عن حفظ توازن الجسم أثناء الحركة هو .....  
 أ النصفان الكرويان      ب الرتتان      ج النخاع المستطيل      د المخيخ
- ④ يتكوّن غاز الأوزون من ..... ذرات أكسجين.  
 أ ثلاث      ب أربع      ج خمس      د ست

## (ب) علل لما يأتي:

- ① لا يُجمع غاز ثاني أكسيد الكربون بإزاحة الماء.
- ② إصابة النخاع المستطيل تؤدي إلى الوفاة.



### السؤال الثالث

(أ) اكتب المصطلح العلمي الذي تدل عليه العبارات التالية:

- 1) المواد التي لا تسمح بمرور الحرارة خلالها. (.....)
- 2) قوة جذب الأرض للجسم. (.....)
- 3) غاز يُستخدم في إطفاء الحرائق. (.....)
- 4) موضع اتصال طرفي عظمتين. (.....)

(ب) جسم كتلته ٣٠ كيلوجرامًا على سطح الأرض. احسب:

- 1) وزن الجسم على سطح الأرض
- 2) وزن الجسم على سطح القمر

### السؤال الرابع

(أ) ضع علامة (✓) أو علامة (X) أمام العبارات التالية:

- 1) يُمثّل غاز الأكسجين ٢١٪ من حجم الغلاف الجوي. ( )
- 2) مفصل الكتف من المفاصل واسعة الحركة. ( )
- 3) تختلف كتلة الجسم من مكان لآخر. ( )
- 4) تُصنع أواني الطهي من البلاستيك. ( )

(ب) اذكر أهمية كل من:

- 1) الغلاف الجوي
- 2) الغضاريف



## (أ) أكمل الجمل التالية:

- ① يمكن الكشف عن وجود غاز ثانى أكسيد الكربون باستخدام .....
- ② يستخدم ..... فى قياس درجة حرارة السوائل.
- ③ وزن الجسم على سطح القمر يساوى ..... وزنه على سطح الأرض.
- ④ يعتبر مفصل ..... من أمثلة المفاصل محدودة الحركة.

## (ب) علل لما يأتى:

- ① يجمع غاز الأكسجين بإزاحة الماء لأسفل عند تحضيره فى المعمل.

.....

.....

- ② تُصنع مقابض أواني الطهى من الخشب أو البلاستيك.

.....

.....

## السؤال الثانى

## (أ) اختر الإجابة الصحيحة :

- ① يعتبر ..... من مكونات الجهاز العصبى المركزى.
  - أ المخ
  - ب القفص الصدرى
  - ج العمود الفقرى
  - د الجمجمة
- ② ينتج غاز ..... من احتراق المواد العضوية.
  - أ الهيدروجين
  - ب الأكسجين
  - ج النيتروجين
  - د ثانى أكسيد الكربون
- ③ يحتوى مستودع الترمومتر الطبى على .....
  - أ زيت
  - ب كحول
  - ج ماء
  - د زئبق
- ④ يشغل غاز الأكسجين ..... حجم الهواء الجوى تقريباً.
  - أ  $\frac{1}{5}$
  - ب  $\frac{2}{5}$
  - ج  $\frac{3}{5}$
  - د  $\frac{4}{5}$

## (ب) جسم وزنه على سطح الأرض ٨٠ نيوتن. احسب:

- ① كتلة الجسم على سطح الأرض
- ② وزن الجسم على سطح القمر



## السؤال الثالث

(أ) اكتب المصطلح العلمي الذي تدل عليه العبارات التالية:

- (.....)
- (.....)
- (.....)
- (.....)

① عضو مسئول عن الأفعال المنعكسة.

② مواد تسمح بمرور الحرارة خلالها.

③ لهب يُستخدم فى قطع ولحام المعادن.

④ مقدار ما يحتويه الجسم من مادة.

(ب) ماذا يحدث عند؟

① الإسراف فى تناول المواد المنبهة.

② القضاء على بكتيريا التربة.

## السؤال الرابع

(أ) صوّب ما تحته خط:

① يستخدم الميزان ذو الكفتين لقياس الوزن.

② غاز الأكسجين هو المكوّن الأساسى للمواد البروتينية التى تكوّن الأنسجة والخلايا.

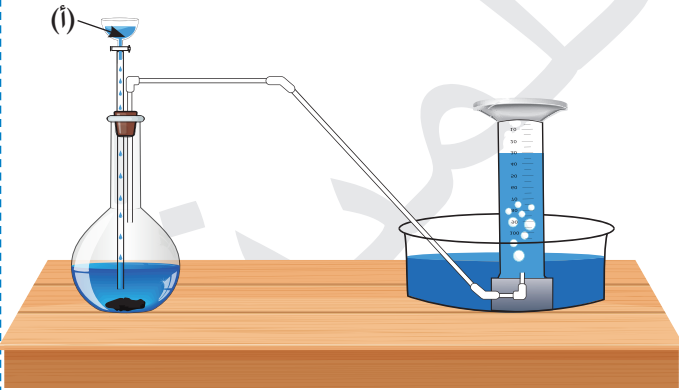
③ الفكرة الأساسية لعمل الترمومتر هى تغير كتلة السائل الموجود به مع تغير درجة الحرارة.

④ المخ هو وحدة بناء الجهاز العصبى.

(ب) انظر إلى الجهاز المقابل، ثم أكمل:

① يستخدم هذا الجهاز فى تحضير غاز .....

② يسمى المحلول (أ) .....





## السؤال الأول

## (أ) أكمل الجمل التالية:

- 1) أسرع المعادن فى توصيل الحرارة هو .....
- 2) عند إضافة الخميرة إلى المخبوزات ينتج غاز .....
- 3) يبلغ عدد فقرات العمود الفقرى ..... فقرة.
- 4) يعتبر ..... من وحدات قياس الكتلة، ويساوى تقريباً كتلة مشبك الورق المعدنى.

## (ب) علل لما يأتى:

- 1) وجود اختناق فوق مستودع الترمومتر الطبى.

- 2) يُستخدم غاز ثانى أكسيد الكربون فى إطفاء الحرائق.

## السؤال الثانى

## (أ) اختر الإجابة الصحيحة:

- 1) تنتج البقوليات البروتين من ..... الهواء، بمساعدة نوع معين من البكتيريا تعيش فى جذورها.
 

أ نيتروجين	ب أكسجين	ج هيدروجين	د ثانى أكسيد الكربون
------------	----------	------------	----------------------
- 2) درجة حرارة جسم الإنسان السليم صحياً ..... درجة سيليزية.
 

أ ٣٥	ب ٣٧	ج ٤٢	د ١٠٠
------	------	------	-------
- 3) تقع مراكز التفكير والتذكُّر فى .....
 

أ النخاع المستطيل	ب الحبل الشوكى	ج المخيخ	د النصفين الكرويين
-------------------	----------------	----------	--------------------
- 4) وزن شخص فى بالون متحرك فى الهواء ..... وزنه على سطح الأرض.
 

أ أقل من	ب أكبر من	ج يساوى	د ضعف
----------	-----------	---------	-------

## (ب) ماذا يحدث عند؟:

- 1) تنكيس مخبار به أكسجين فوق عود ثقاب مشتعل.

- 2) التحام جميع عظام الإنسان مع بعضها بدون مفاصل.



### السؤال الثالث

(أ) اكتب المصطلح العلمى الذى تدل عليه العبارات التالية:

- 1 جهاز مسئول عن التكامل والتنسيق بين أجهزة جسم الإنسان. (.....)
- 2 قوة جذب الأرض للجسم. (.....)
- 3 استجابة تلقائية وسريعة عند تعرض الجسم لمؤثر خارجى. (.....)
- 4 ارتفاع درجة حرارة الأرض نتيجة زيادة نسبة غاز ثانى أكسيد الكربون فى الغلاف الجوى عن نسبته الطبيعية. (.....)

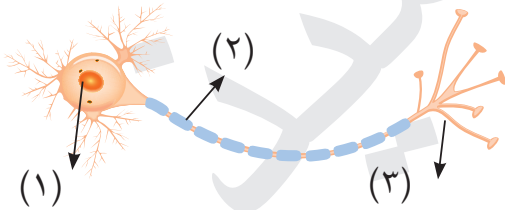
(ب) جسم كتلته ٣٠ كيلوجرامًا على سطح الأرض. احسب:

- 1 وزنه على سطح الأرض
- 2 كتلته على سطح القمر

### السؤال الرابع

(ب)	(أ)
أ المفاصل التى لا تسمح بالحركة	1 مواد جيدة التوصيل للحرارة
ب عامل مساعد يستخدم أثناء تحضير الأكسجين	2 الترمومتر المئوى
ج قياس درجة حرارة السوائل	3 المفاصل الثابتة
د الخشب والبلاستيك	4 ثانى أكسيد المنجنيز
هـ الألومنيوم والنحاس والحديد	

(ب) 1 اكتب ما تشير إليه الأرقام على الرسم:



- ١ - .....
  - ٢ - .....
  - ٣ - .....
- 2 الشكل الذى أمامك يمثل .....



## السؤال الأول

## (أ) أكمل الجمل التالية:

- ① مركز التحكم الرئيسي في جسم الإنسان هو .....
- ② من أمثلة المواد جيدة التوصيل للحرارة .....
- ③ ينتج غاز ..... من عملية البناء الضوئي.
- ④ يستخدم الميزان ..... في قياس كتلة الخضراوات والفواكه.

## (ب) علل لما يأتي:

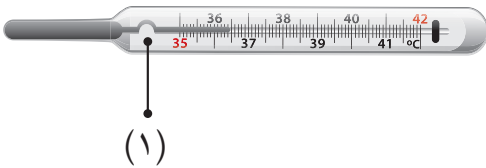
- ① تترك مسافات محسوبة بين قضبان السكك الحديدية.
- ② تُضاف الخميرة إلى العجين عند صناعة المخبوزات.

## السؤال الثاني

## (أ) اختر الإجابة الصحيحة:

- ① تتصل عظام الطرفين العلويين بعظام .....  
 أ الكتف      ب الحوض      ج الفخذ      د الساق
- ② تستخدم الترمومترات في قياس .....  
 أ الوزن      ب الكتلة      ج الطول      د درجة الحرارة
- ③ إذا كان وزن جسم في منطاد ساكن مرتفع عن سطح الأرض يساوي ٨٠ نيوتن، فإن وزن نفس الجسم عندما يكون على سطح الأرض هو ..... نيوتن.  
 أ ٧٥      ب ٧٨      ج ٨٠      د ٨١
- ④ كل مما يلي من خواص الزئبق كسائل ترمومتري، ما عدا .....  
 أ جيد التوصيل للحرارة      ب مادة منتظمة التمدد  
 ج يعطى مدى محدودًا لقياس درجة الحرارة      د لا يلتصق بجدران الأنبوبة الشعرية

## (ب) انظر إلى الشكل الذي أمامك، ثم أجب:



- ① ما اسم الجهاز؟
- ② يشير رقم (١) إلى .....



### السؤال الثالث

(أ) اكتب المصطلح العلمى الذى تدل عليه العبارات التالية:

- ① استجابة تلقائية سريعة عند تعرّض الجسم لمؤثر خارجى. (.....)
- ② وحدة قياس الوزن ويكافئ وزن جسم كتلته ١٠٠ جرام. (.....)
- ③ مؤشر يساعدنا على التعبير عن مدى سخونة أو برودة أى جسم. (.....)
- ④ غاز يتكون من ثلاث ذرات أكسجين. (.....)

(ب) ماذا يحدث عند؟:

- ① وضع شريط ماغنسيوم مشتعل فى مخبر به أكسجين.
- ② تلامس جسمين أحدهما ساخن والآخر بارد.

### السؤال الرابع

(أ) ضع علامة (✓) أو علامة (X) أمام العبارات التالية:

- ① المادة الرمادية بالحبل الشوكى على شكل حرف F. ( )
- ② يتكون القفص الصدرى من ١٢ زوجاً من الضلوع. ( )
- ③ العامل المساعد يزيد من سرعة التفاعل ولا يشترك فى التفاعل. ( )
- ④ الدرجة المئوية هى وحدة قياس الكتلة. ( )

(ب) جسم وزنه ١٢٠ نيوتن على سطح الأرض. احسب:

- ① كتلته على سطح الأرض
- ② وزنه على سطح القمر



## السؤال الأول

## (أ) أكمل الجمل التالية:

- 1) يتم تطهير الترمومتر باستخدام .....
- 2) يستخدم غاز ..... عند خلطه مع الأسيتيلين فى قطع ولحام المعادن.
- 3) عدد الأعصاب المخية ..... زوجًا.
- 4) الميزان ..... يستخدم فى تقدير كتلة المشغولات الذهبية.

## (ب) علل لما يأتى:

- 1) يقع المخ داخل الجمجمة.

- 2) يسمى غاز النيتروجين الآزوت أو عديم الحياة.

## السؤال الثانى

## (أ) اختر الإجابة الصحيحة:

- 1) ينحل ..... فى وجود ثانى أكسيد المنجنيز إلى أكسجين وماء.
  - أ) ثانى أكسيد الكربون
  - ب) فوق أكسيد الهيدروجين
  - ج) حمض الهيدروكلوريك
  - د) كربونات الكالسيوم
- 2) كتلة الجسم على الأرض ..... كتلته على القمر.
  - أ) سدس
  - ب) تساوى
  - ج) ضعف
  - د) ستة أمثال
- 3) أقل درجة فى تدريج الترمومتر المئوى تمثل درجة .....
  - أ) تجمد الماء
  - ب) غليان الماء
  - ج) غليان الزئبق
  - د) تجمد الزئبق
- 4) يتحكّم ..... فى الأفعال المنعكسة.
  - أ) النخاع المستطيل
  - ب) المخيخ
  - ج) النصفان الكرويان
  - د) الحبل الشوكى

## (ب) اذكر استخدامًا واحدًا لكل من:

- 1) الثلج الجاف

- 2) القفص الصدرى



### السؤال الثالث

(أ) اكتب المصطلح العلمى الذى تدل عليه العبارات التالية:

- ① موضع تقابل العظام فى الجسم. (.....)
- ② طبقة من الغلاف الجوى تحمى الأرض من الأشعة فوق البنفسجية الضارة. (.....)
- ③ وحدة قياس الكتلة ويكافئ تقريباً كتلة لتر من الماء المقطر. (.....)
- ④ صورة من صور الطاقة تنتقل من الجسم الأعلى فى درجة الحرارة إلى الجسم الأقل فى درجة الحرارة. (.....)

(ب) جسم وزنه على سطح القمر ١٠ نيوتن. احسب:

- ① وزنه على سطح الأرض
- ② كتلته على سطح الأرض

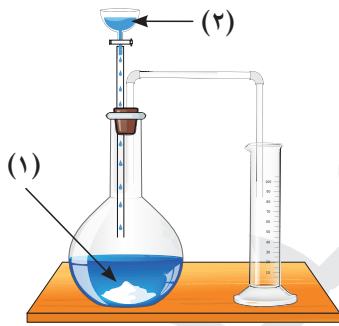
### السؤال الرابع

(أ) صوّب ما تحته خط:

- ① يخرج من الحبل الشوكى ١٢ زوجاً من الأعصاب.
- ② ماء الجير الرائق هو كربونات الكالسيوم.
- ③ النيوتن يساوى وزن جسم كتلته ١٠ جرامات.
- ④ تدريج الترمومتر الطبى يبدأ من ٣٥ درجة سيليزية إلى ١٠٠ درجة سيليزية.

(ب) انظر إلى الجهاز المقابل، ثم أكمل:

- ① يُمثل الجهاز تحضير غاز .....
- ② المادة (١) هى ..... بينما السائل (٢) هو .....



# سلاح التلميذ

منذ عام ١٩٦٠

## العلوم

الإجابات النموذجية لاختبارات نهاية الفصل الدراسي الأول



2023 - 2022

الصف السادس الابتدائي

6

## إجابة الاختبار 1

### السؤال الأول

- أ 1 أكاسيد النيتروجين 2 ٣٥° 3 الكيلوجرام 4 محور  
ب 1 يصدأ المسمار وتتكون طبقة من أكسيد الحديد 2 يؤثر سلبًا على الجهاز العصبي

### السؤال الثاني

- أ 1 ب 2 ج 3 د 4 أ 1 ب 2  
ب 1 لأنه يذوب في الماء.  
2 لأنه مسئول عن العمليات اللاإرادية مثل ضربات القلب وعملية التنفس.

### السؤال الثالث

- أ 1 المواد رديئة التوصيل للحرارة 2 الوزن 3 غاز ثاني أكسيد الكربون 4 المفصل  
ب 1 وزن الجسم على سطح الأرض = كتلة الجسم  $\times 10 = 10 \times 300 = 3000$  نيوتن  
2 وزن الجسم على سطح القمر = وزن الجسم على سطح الأرض  $\div 6 = 300 \div 6 = 50$  نيوتن

### السؤال الرابع

- أ 1 ✓ 2 ✓ 3 ✗ 4 ✗  
ب 1 (1) يحمي الأرض من الأشعة فوق البنفسجية الضارة عن طريق طبقة الأوزون.  
(2) يعمل على اعتدال درجات الحرارة على سطح الأرض.  
2 تمنع احتكاك الفقرات ببعضها أثناء الحركة حتى لا تتآكل.

## إجابة الاختبار 2

### السؤال الأول

- أ 1 ماء الجير الراقق (هيدروكسيد الكالسيوم) 2 الترمومتر المئوي  
3 سدس 4 الركبة  
ب 1 لأنه شحيح الذوبان في الماء. 2 لأنها مواد رديئة التوصيل للحرارة.

### السؤال الثاني

- أ 1 أ 2 د 3 د 4 أ  
ب 1 كتلة الجسم على سطح الأرض = وزن الجسم  $\div 10 = 80 \div 10 = 8$  كيلوجرامات  
2 وزن الجسم على سطح القمر = وزن الجسم على سطح الأرض  $\div 6 = 80 \div 6 = 13,3$  نيوتن





### السؤال الثالث

- أ 1 الحبل الشوكي 2 المواد جيدة التوصيل للحرارة  
 3 لهب الأكسجين أسيتيلين 4 الكتلة  
 ب 1 يُسبب التوتر العصبي ويؤثر على فترات النوم وضربات القلب.  
 2 لن تستطيع النباتات الحصول على النيتروجين اللازم لصنع البروتين.

### السؤال الرابع

- أ 1 الزنبركي 2 النيتروجين 3 حجم 4 الخلية العصبية  
 ب 1 الأكسجين 2 فوق أكسيد الهيدروجين

## إجابة الاختبار 3

### السؤال الأول

- أ 1 النحاس 2 ثاني أكسيد الكربون 3 (٣٣) 4 الجرام  
 ب 1 ليمنع رجوع الزيتق بسرعة إلى المستودع حتى نتمكن من تسجيل القراءة بسهولة.  
 2 لأنه لا يشتعل ولا يساعد على الاشتعال.

### السؤال الثاني

- أ 1 أ 2 ب 3 د 4 أ  
 ب 1 يزداد توهج عود الثقاب ويحل الأكسجين محل الهواء.  
 2 لن يستطيع الإنسان الحركة.

### السؤال الثالث

- أ 1 الجهاز العصبي 2 الوزن 3 الفعل المنعكس 4 ظاهرة الاحتباس الحراري  
 ب 1 وزن الجسم على سطح الأرض = كتلة الجسم  $\times ١٠ = ٣٠ \times ١٠ = ٣٠٠$  نيوتن  
 2 كتلة الجسم على سطح القمر = كتلته على سطح الأرض  $= ٣٠$  كيلوجرامًا

### السؤال الرابع

- أ 1 هـ 2 ج 3 أ 4 ب  
 ب 1 ١ - النواة 2 - غلاف دهني ٣ - تفرعات نهائية  
 2 الخلية العصبية



## إجابة الاختبار 4

### السؤال الأول

- أ 1 المخ 2 النحاس 3 ثاني أكسيد الكربون 4 المعتاد  
 ب 1 حتى لا يحدث التواء للقضبان الحديدية عند تمددها صيفاً؛ مما يؤدي إلى وقوع حوادث للقطارات.  
 2 لحدوث عملية التخمر وتساعد غاز ثاني أكسيد الكربون الذي يتمدد بفعل الحرارة فيجعل الخبز مسامياً.

### السؤال الثاني

- أ 1 أ 2 د 3 د 4 ج  
 ب 1 الترمومتر الطبي 2 الاختناق

### السؤال الثالث

- أ 1 الفعل المنعكس 2 النيوتن 3 درجة الحرارة 4 الأوزون  
 ب 1 تتكون مادة بيضاء من أكسيد الماغنسيوم.  
 2 تنتقل الحرارة من الجسم الساخن إلى الجسم البارد.

### السؤال الرابع

- أ 1 X 2 ✓ 3 ✓ 4 X  
 ب 1 كتلة الجسم على سطح الأرض = وزن الجسم على الأرض ÷ ١٠  
 كتلة الجسم على سطح الأرض = ١٢ ÷ ١٠ = ١.٢ كيلوجراماً  
 2 وزن الجسم على سطح القمر = وزن الجسم على سطح الأرض ÷ ٦  
 وزن الجسم على سطح القمر = ٦ ÷ ١٢٠ = ٢٠ نيوتن

## إجابة الاختبار 5

### السؤال الأول

- أ 1 الكحول الإيثيلي 2 الأكسجين 3 ١٢ 4 الحساس  
 ب 1 لحماية المخ.  
 2 لأنه لا يساعد على الاشتعال، وليس له دور في عملية التنفس.

### السؤال الثاني

- أ 1 ب 2 ب 3 أ 4 د  
 ب 1 يستخدم في عمليات التبريد.  
 2 حماية القلب والرئتين - المساعدة على عملية الشهيق والزفير



### السؤال الثالث

- أ 1) المفاصل 2) طبقة الأوزون 3) الكيلوجرام 4) الطاقة الحرارية
- ب 1) وزن الجسم على سطح الأرض = وزنه على القمر  $\times 6$   
وزن الجسم على سطح الأرض =  $6 \times 100 = 600$  نيوتن  
2) كتلة الجسم على سطح الأرض = وزن الجسم  $\div 10$   
كتلة الجسم على سطح الأرض =  $10 \div 600 = 60$  كجم

### السؤال الرابع

- أ 1) ٣١ 2) هيدروكسيد الكالسيوم 3) ١٠٠ جرام 4) ٤٢
- ب 1) ثاني أكسيد الكربون  
2) (1) كربونات الكالسيوم  
(2) حمض الهيدروكلوريك المخفف



# سلاح التلميذ

منذ عام ١٩٦٠

## الدراسات الاجتماعية

اختبارات نهاية الفصل الدراسي الأول



2023 - 2022

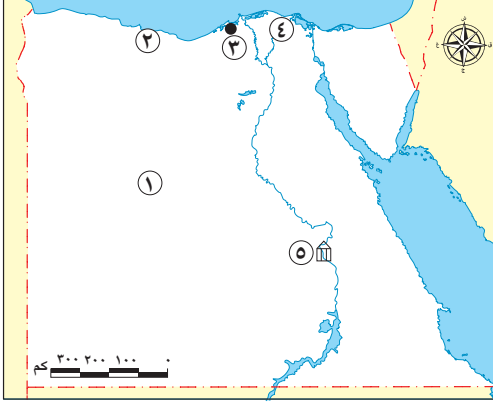
الصف السادس الابتدائي

6

## الاختبار ١

## أولاً: الجغرافيا

## السؤال الأول ( أ ) لاحظ الخريطة ثم أجب:



- ١ الصحراء .....
- ٢ منطقة تعتمد في الزراعة على مياه .....
- ٣ محافظة حضرية .....
- ٤ فرع النيل .....
- ٥ قناتر .....

## (ب) اكتب سبباً واحداً لكل من:

- ١ تنوع البيئات في مصر.
- ٢ أهمية رأس المال بالنسبة للصناعة.

## السؤال الثاني ( أ ) أكمل العبارات التالية بما يناسبها من كلمات:

- ١ تقع رأس الدلتا في شمال مدينة .....
- ٢ تقوم الدولة بإنشاء المراكز الصحية للقضاء على مشكلة انتشار .....
- ٣ زاد النشاط السياحي في محافظة الشرقية بسبب وجود آثار حضارة .....
- ٤ " طلب السكان المحليين للمنتجات الصناعية " يناسب هذا التعريف السوق .....
- ٥ تُصنف صناعة السجاد اليدوي من الصناعات .....
- ٦ إنشاء وزارة البيئة أحد جهود الدولة لحل مشكلة .....

## (ب) ما المقصود بكل من:

- ١ البيئة الزراعية.
- ٢ الاستنزاف.

## ثانياً: التاريخ

## السؤال الثالث ( أ ) اكتب كلمة (صواب) أمام العبارة الصحيحة، وكلمة (خطأ) أمام العبارة غير الصحيحة:

- ١ تولى المماليك حكم مصر بعد انهيار الدولة الفاطمية. ( )
- ٢ استفاد العثمانيون من خبرات المماليك في حكم مصر. ( )
- ٣ اتجهت الحملة الفرنسية إلى الإسكندرية مباشرة. ( )
- ٤ قام محمد علي بنفي عمر مكرم خارج مصر. ( )
- ٥ أثبتت ثورة القاهرة الأولى عدم احترام نابليون للشعور الديني للمصريين. ( )



(ب) اذكر عملاً واحداً لكل من:

١ السلطان محمد الثاني.

٢ طوسون بن محمد علي.

السؤال الرابع اختر الإجابة الصحيحة مما بين القوسين:

١ اكتشف طريق رأس الرجاء الصالح ١٤٩٨ م على يد .....

(الفرنسيين - البرتغاليين - البريطانيون - العثمانيين)

٢ الدفاع عن مصر أثناء الحكم العثماني كانت مهمة .....

(أعضاء الديوان - كبار العلماء - الحامية العثمانية - عامة الشعب)

٣ كانت أول مواجهة بين الفرنسيين والمماليك في .....

(شبراخيت - إمبابة - القاهرة - بولاق)

٤ فشل الفرنسيين في فتح مدينة .....

(حيفا - عكا - طرابلس - يافا)

٥ أحد نتائج اهتمام محمد علي بالتعليم إنشاء .....

(ديوان القاهرة - ترسانة بحرية - المطبعة الأميرية - قصر الجوهرة)

٦ نجح في إقامة إمبراطورية مصرية امتدت حتي خط الاستواء .....

(عباس باشا الأول - محمد سعيد باشا - الخديو إسماعيل - الخديو توفيق)

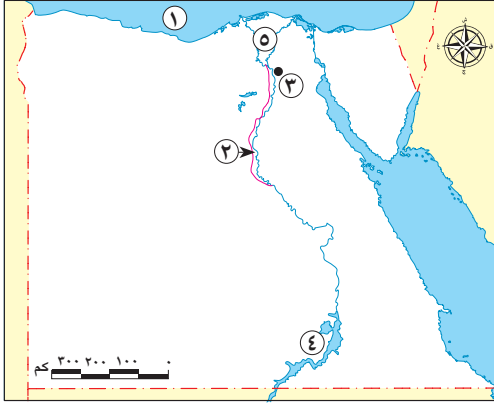
(ب) ما العلاقة بين: النهضة الصناعية في عهد محمد علي والجيش المصري؟



## الاختبار ٢

### أولاً: الجغرافيا

#### السؤال الأول (أ) لاحظ الخريطة ثم أجب:



- ١ البحر .....
- ٢ ترعة .....
- ٣ محافظة حضرية .....
- ٤ بحيرة .....
- ٥ منطقة صناعية .....

#### (ب) دلل جغرافياً على صحة العبارات الآتية:

– قامت الدولة بعدة جهود لحل مشكلات الصناعة.

#### السؤال الثاني (أ) اكتب المصطلح الجغرافي الدال على كل عبارة مما يلي:

- ١ زراعة الأرض وإنتاج المحاصيل وتربية الحيوانات كما يتضمن تربية الدواجن. (.....)
- ٢ تحويل المواد الخام إلى سلع ومنتجات لسد احتياجات السكان. (.....)
- ٣ إزالة الطبقة السطحية من التربة الزراعية مما يؤدي إلى تناقص إنتاجها. (.....)
- ٤ حاجز مائي أنشئ بغرض رفع منسوب المياه وتوزيعها في الترع المتفرعة أمامها. (.....)
- ٥ انتقال الأفراد من مكان لآخر سواء داخل الدولة أو خارجها ويكون الانتقال لفترة زمنية طويلة. (.....)
- ٦ طلبات الدول الأخرى للمنتجات الصناعية مثل الدول العربية والإفريقية. (.....)

(ب) قارن بين: العادات الإيجابية والعادات السلبية للعاملين بالبيئة الصناعية.

### ثانياً: التاريخ

#### السؤال الثالث اختر الإجابة الصحيحة مما بين القوسين:

- ١ بموجب فرمان يونيو ١٨٤١ م أصبح حكم مصر .....  
(برلمانيًا – وراثيًا – ديمقراطيًا – جمهوريًا)
- ٢ كان مقر الحكومة المركزية في عهد محمد علي في .....  
(الإسكندرية – القاهرة – الغربية – الجيزة)
- ٣ تولى المماليك حكم البلاد عقب انهيار الدولة .....  
(الفاطمية – الأيوبية – العباسية – الأموية)



٤ تم تحطيم الأسطول الفرنسي أغسطس ١٧٩٨ م في موقعة .....

(أبي قير البحرية - أبي قير البرية - الريدانية - مرج دابق)

٥ حاول الإنجليز احتلال مصر عام ١٨٠٧ م بسبب أهميتها .....

(العلمية - الاجتماعية - الجغرافية - الدينية)

(ب) بم تفسر؟:

١ قيام محمد علي بمذبحة القلعة ١٨١١ م.

٢ قيام ثورة القاهرة الأولى ضد الفرنسيين.

السؤال الرابع لمن تنسب الأعمال الآتية؟:

١ دخل مدينة القسطنطينية عاصمة الدولة البيزنطية عام ١٤٥٣ م.

٢ هزم المماليك في معركة الريدانية عام ١٥١٧ م.

٣ قائد الأسطول الإنجليزي في موقعة أبي قير البحرية أغسطس ١٧٩٨ م.

٤ قائد ثورة القاهرة الثانية في مارس ١٨٠٠ م التي انطلقت من حي بولاق.

٥ الشاب السوري الذي قام بقتل كليبر في يونيو ١٨٠٠ م.

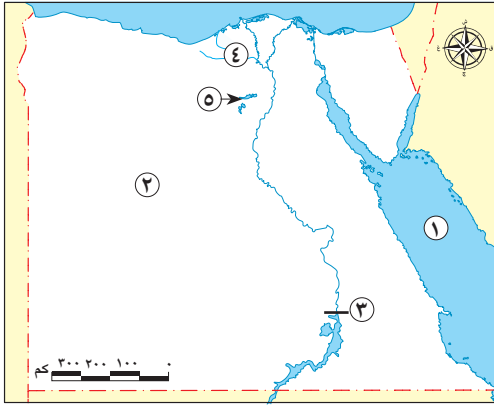
٦ الوالي العثماني الذي تم عزله عام ١٨٠٥ م.

(ب) ما رأيك في: نظام الحكم العثماني علي مصر مع ذكر السبب؟





السؤال الأول ( أ ) لاحظ الخريطة، ثم أجب:



- ١ البحر .....
- ٢ تمدنا البيئة رقم (٢) بما نحتاجه من .....
- ٣ السد .....
- ٤ ترعة .....
- ٥ منطقة زراعية .....

(ب) ما النتائج المترتبة على؟

- ١ غرق قرى النوبة بعد بناء بحيرة السد العالي.
- ٢ إلقاء مخلفات المصانع السائلة في المجاري المائية لنهر النيل.

السؤال الثاني ( أ ) اختر الإجابة الصحيحة مما بين القوسين:

- ١ إحدى المواد الخام الحيوانية اللازمة للصناعة .....  
(الذرة - الجلود - الحديد - البترول)
- ٢ إحدى الصناعات البسيطة في مصر صناعة .....  
(حلج القطن - الفخار - السجاد اليدوي - الآلات)
- ٣ حضارة تل بسطة من المعالم السياحية بمحافظة .....  
(الفيوم - المنوفية - أسوان - الشرقية)
- ٤ نحصل على الأغذية المحفوظة من البيئة .....  
(الزراعية - الصحراوية - الصناعية - الساحلية)
- ٥ تتركز معظم المساحة المزروعة في مصر بمنطقة .....  
(وادي النيل - الدلتا - منخفض الفيوم - الواحات)
- ٦ عدم وجود حدود فاصلة بين البيئات يعني أنها .....  
(متداخلة - متنوعة - متشابهة - متكاملة)

(ب) وضع الأضرار الناتجة عما يأتي:

- ١ استنزاف الموارد الطبيعية.
- ٢ تجريف التربة.



## ثانيًا: التاريخ

### السؤال الثالث

( أ ) أكمل العبارات التالية بما يناسبها من كلمات:

- ١ تم عقد اتفاقية العريش في يناير ١٨٠٠ م بين العثمانيين والقائد الفرنسي .....
- ٢ بدأت ثورة القاهرة الثانية في مارس ١٨٠٠ م من حي .....
- ٣ تولى المماليك حكم مصر عقب انهيار الدولة .....
- ٤ أصبحت مصر ولاية عثمانية عام ١٥١٧ م بعد موقعة .....
- ٥ تخلص محمد علي من الزعامة الشعبية بنفي عمر مكرم إلى مدينة .....

(ب) دلل تاريخيًا على صحة العبارة الآتية: تعددت مهام الوالي في الدولة العثمانية.

### السؤال الرابع

( أ ) اكتب كلمة (صواب) أمام العبارة الصحيحة، وكلمة (خطأ) أمام العبارة غير الصحيحة:

- ١ خاض محمد علي حروبًا في السودان واليونان. ( )
- ٢ أنشأ محمد علي المطبعة الأميرية في الإسكندرية. ( )
- ٣ انتهت معركة شبراخيت بهزيمة المماليك أمام الفرنسيين. ( )
- ٤ تعقب إبراهيم بن محمد علي المماليك الناجين من معركة الريدانية. ( )
- ٥ كان تهديد مصالح إنجلترا في الشرق أحد الأهداف المعلنة للحملة الفرنسية. ( )
- ٦ تولى إبراهيم باشا الحكم بعد محمد علي. ( )

(ب) ماذا يحدث إذا لم؟:

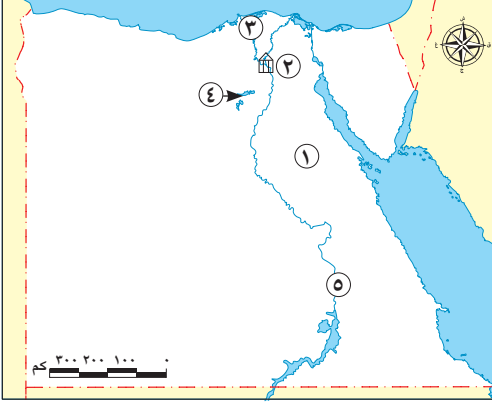
- ١ يتم اكتشاف حجر رشيد. ( )
- ٢ يكتشف البرتغاليون طريق رأس الرجاء الصالح عام ١٤٩٨ م. ( )



## الاختبار ٤

### أولاً: الجغرافيا

#### السؤال الأول ( أ ) لاحظ الخريطة ثم أجب:



- ١ الصحراء .....
- ٢ القناطر .....
- ٣ فرع النيل .....
- ٤ منخفض .....
- ٥ محافظة .....

#### (ب) اقترح حلًا واحدًا للمشكلات التالية:

- ١ نقص الكوادر الفنية.
- ٢ الهجرة إلى المدن.

#### السؤال الثاني ( أ ) أكمل العبارات الآتية بما يناسبها من كلمات:

- ١ تعتمد الزراعة بالواحات على المياه .....
- ٢ أحد أسباب مشكلة الصرف الزراعي الزائد الري .....
- ٣ تشجع الدولة المزارعين على استخدام الأسمدة .....
- ٤ أحد العوامل الأساسية لقيام الصناعة هي توافر رأس .....
- ٥ تقع منطقة نجع حمادي الصناعية بمحافظة .....
- ٦ لتخريج عمالة فنية مدربة تهتم الدولة بالتعليم .....

#### (ب) ما النتائج المترتبة على: تنوع الموارد الطبيعية في البيئة الزراعية؟

### ثانياً: التاريخ

#### السؤال الثالث ( أ ) اكتب ما تشير إليه كل عبارة مما يلي:

- ١ طريق اكتشافه البرتغاليون في عام ١٤٩٨ م. (.....)
- ٢ هيئة تألفت من كبار العلماء وكبار ضباط الحامية وكان لهم حق مراقبة الوالي. (.....)
- ٣ إقليم يحكمه أجنبي يتوطنه أو يستغله اقتصادياً أو عسكرياً. (.....)
- ٤ حركة شعبية شاملة تهدف إلى التغيير الجذري الشامل والمنظم للأوضاع في المجتمع. (.....)
- ٥ تجهيز الجيش وتوجيهه لأهداف حربية. (.....)



(ب) (يعتبر يوم ١٣ مايو ١٨٠٥ م يوماً مهماً في تاريخ مصر الحديث) في ضوء هذه العبارة أجب عن الأسئلة الآتية:

- ١ حدد اسم المكان الذي اجتمع فيه زعماء الشعب.
- ٢ ما شرط زعماء الشعب لمساعدة محمد علي لتوليته حكم مصر؟

السؤال الرابع (أ) اكتب كلمة (صواب) أمام العبارة الصحيحة، وكلمة (خطأ) أمام العبارة غير الصحيحة:

- ١ تكون نظام الحكم العثماني في مصر من ٦ هيئات. ( )
- ٢ قام السلطان عثمان بن أرطغرل بترحيل العمال المهرة المصريين إلى الآستانة. ( )
- ٣ ضمت الحملة الفرنسية على مصر مجموعة من العلماء والرسامين والكتاب. ( )
- ٤ تولى الجنرال مينو قيادة الحملة بعد مقتل كليبر. ( )
- ٥ هُزمت حملة فريزر في مدينة رشيد بسبب مقاومة الأهالي. ( )
- ٦ تم إصدار جريدة الوقائع المصرية في عهد محمد علي. ( )

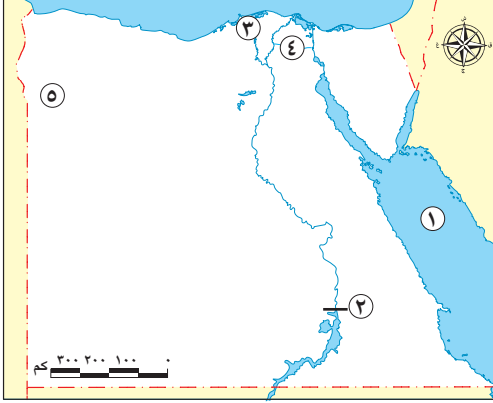
(ب) قارن بين:

- موقعة أبي قير البحرية - موقعة أبي قير البرية من حيث (النتائج)



## السؤال الأول

(أ) لاحظ الخريطة ثم أجب:



- ١ البحر .....
- ٢ السد .....
- ٣ فرع .....
- ٤ ترعة .....
- ٥ تعتمد الزراعة في المنطقة رقم (٥) علي المياه .....

(ب) ما العلاقة بين؟:

- ١ البيئة الصناعية والأمية.
- ٢ السد العالي وسكان النوبة.

## السؤال الثاني صوب ما تحته خط فيما يلي:

- ١ انخفاض مستوى دخل السكان بالبيئة الزراعية من الخصائص الاجتماعية.
- ٢ الزراعة في وادي النيل والدلتا والواحات زراعة مطرية.
- ٣ الذهب والفوسفات من المواد الخام الزراعية.
- ٤ حماية البيئة من الأخطار من مهام وزارة الصحة.
- ٥ صناعة حلج القطن من الصناعات الحرفية.
- ٦ تتنوع مصادر الطاقة النظيفة ومنها الشمس والفحم.

(ب) ما رأيك في التصرف التالي؟ ولماذا؟:

- شخص أنشأ مصنعه وسط مدينة سكنية؟

## ثانياً: التاريخ

## السؤال الثالث (أ) اختر الإجابة الصحيحة مما بين القوسين:

- ١ أصدر محمد علي صحيفة .....
- (روزاليوسف - اللواء - الوقائع المصرية - المؤيد)
- ٢ اهتم محمد علي بالعمران والعمارة فأنشأ .....
- (ميناء الإسكندرية - قلعة صلاح الدين - قصر الجوهرة - الجامع الأزهر الشريف)
- ٣ كان مركز ثورة القاهرة الأولى .....
- (حي بولاق - ديوان القاهرة - الأزهر الشريف - منطقة إمبابة)



٤ أرسلت بريطانيا حملة عام ١٨٠٧ م إلى مصر بقيادة .....

(نلسون - مينو - فريزر - كليبر)

٥ نجح الخديو إسماعيل في إقامة إمبراطورية مصرية امتدت إلى مديريةية .....

(وسط السودان - شمال إفريقيا - مدار السرطان - خط الاستواء)

### (ب) اذكر سببًا واحدًا لكل من:

١ تكتم الفرنسيين علي خبر أعداد حملة إلي مصر.

٢ قيام ثورة القاهرة الثانية ضد الفرنسيين.

### السؤال الرابع ( أ ) لمن تنسب الأعمال التاريخية الآتية:

١ تولى قيادة الحملة التي أرسلها محمد علي إلى بلاد الحجاز. (.....)

٢ منح امتياز قناة السويس للمهندس الفرنسي ديليسبس. (.....)

٣ استطاع الاستيلاء على مصر عقب معركة الريدانية عام ١٥١٧ م. (.....)

٤ قام محمد علي بنفيه إلى دمياط. (.....)

٥ أول قائد للحملة الفرنسية على مصر. (.....)

٦ تولى الحكم بعد عزل أبيه الخديو إسماعيل. (.....)

(ب) ما النتائج المترتبة على: موقعة أبي قير البحرية في أغسطس ١٧٩٨ م؟ (يكتفى باثنين)



# سلاح التلميذ

منذ عام ١٩٦٠

## الدراسات الاجتماعية

الإجابات النموذجية لاختبارات نهاية الفصل الدراسي الأول



2023 - 2022

الصف السادس الابتدائي

6

# إجابة الاختبار

## أولاً: الجغرافيا

### السؤال الأول:

(أ)

- ١ الغربية. ٢ الأمطار. ٣ الإسكندرية. ٤ دمياط. ٥ إسنا.

(ب)

- ١ اتساع مساحة مصر والتي تزيد قليلاً عن مليون كم<sup>٢</sup>.  
- تنوع مظاهر سطح الأرض. - تنوع الموارد الطبيعية. (يكتفي بسبب واحد)  
٢ لأنه يُستخدم في شراء الآلات ودفع أجور العاملين.

### السؤال الثاني:

(أ)

- ١ القاهرة. ٢ الأمراض. ٣ تل بسة. ٤ المحلية. ٥ الحرفية (اليدوية). ٦ التلوث البيئي.

(ب)

- ١ البيئة الزراعية: هي البيئة التي يتوافر بها مقومات الزراعة (التربة الخصبة، المياه العذبة)، وما يرتبط بها من أعمال أخرى.  
٢ الاستنزاف: هو الإفراط وسوء استخدام الموارد الطبيعية بشكل يؤدي إلى نفاذها.

## ثانياً: التاريخ

### السؤال الثالث:

(أ)

- ١ خطأ. ٢ صواب. ٣ خطأ. ٤ خطأ. ٥ صواب.

(ب)

- ١ السلطان محمد الثاني: دخل مدينة القسطنطينية عاصمة الدولة البيزنطية عام ١٤٥٣ م.  
٢ طوسون بن محمد علي: تولى قيادة الحملة التي أرسلها محمد علي إلى بلاد الحجاز.

### السؤال الرابع:

(أ)

- ١ البرتغاليين. ٢ الحامية العثمانية. ٣ شبراخيت. ٤ عكا. ٥ المطبعة الأميرية. ٦ الخديو إسماعيل.

(ب)

- ارتبطت النهضة الصناعية في عهد محمد علي بالجيش لأن محمد علي أقام العديد من المصانع بهدف سد حاجات الجيش من الملابس والأسلحة وغيرها.





## إجابة الاختبار ٢

### أولاً: الجغرافيا

#### السؤال الأول:

(أ)

- ١ المتوسط.
- ٢ الإبراهيمية.
- ٣ القاهرة.
- ٤ ناصر.
- ٥ المحلة الكبرى.

(ب)

- الانفتاح على العالم الخارجي بتشجيع العرب والأجانب على الاستثمار في مجال الصناعة.
- فتح أسواق داخلية وخارجية جديدة.
  - الاهتمام بالتعليم الفني والصناعي.
  - محاولة تقليل حجم الواردات المصنعة من الخارج. (يكتفى باثنين)

#### السؤال الثاني:

(أ)

- ١ النشاط الزراعي.
- ٢ الصناعة.
- ٣ تجريف التربة.
- ٤ القناطر.
- ٥ الهجرة.
- ٦ السوق الخارجية.

(ب)

- العادات الإيجابية (التعاون بين العاملين - احترام مواعيد العمل - الانتظام في العمل).
- العادات السلبية (التدخين داخل المصانع - ترك المخلفات الصناعية دون معالجتها).

### ثانياً: التاريخ

#### السؤال الثالث:

(أ)

- ١ وراثياً.
- ٢ القاهرة.
- ٣ الأيوبية.
- ٤ أبي قير البحرية.
- ٥ الجغرافية.

(ب)

- ١ للقضاء علي الممالك والتخلص منهم.
- ٢ فرض الفرنسيون الضرائب - تفتيش الفرنسيين للبيوت - هدم أبواب الحارات والمساجد. (يكتفى بسبب واحد)

#### السؤال الرابع:

(أ)

- ١ السلطان محمد الثاني.
- ٢ سليم الأول.
- ٣ نلسن.
- ٤ عمر مكرم.
- ٥ سليمان الحلبي.
- ٦ خورشيد باشا.

(ب)

- أي إجابة تُقبل من الطالب. درجة للرأي وأخرى للسبب.



### إجابة الاختبار ٣

#### أولاً: الجغرافيا

##### السؤال الأول:

(أ)

١ الأحمر.

٤ النوبارية.

(ب)

١ تهجير سكان النوبة حيث قامت وزارة الإسكان بإنشاء قرى سكنية بديلة لهم مثل (إبريم - أبو سمبل - وادي العرب).

٢ تلوث الماء وموت الأسماك والكائنات الحية.

##### السؤال الثاني:

(أ)

١ الجلود.

٤ الصناعية.

(ب)

١ نفاد الموارد.

٢ تناقص الأراضي الزراعية وتدهور إنتاجها.

#### ثانياً: التاريخ

##### السؤال الثالث:

(أ)

١ كليبر.

٤ الريدانية.

(ب)

- يشرف على تنفيذ القرارات الصادرة من السلطان العثماني.

- يرسل الخراج المفروض على البلاد. - يحافظ على الأمن في الولاية. - يدعو الديوان للانعقاد. (يكتفى باثنين)

##### السؤال الرابع:

(أ)

١ صواب.

٤ خطأ.

(ب)

١ لم تُفك رموز الكتابة المصرية القديمة. (تقبل كافة الإجابات الصحيحة)

٢ لم تتدهور أحوال الممالك الاقتصادية.



## ٤ إجابة الاختبار

### أولاً: الجغرافيا

#### السؤال الأول:

(أ)

١ الشرقية.

٤ الفيوم.

(ب)

- أي إجابة منطقية مقبولة من الطالب.

#### السؤال الثاني:

(أ)

١ الجوفية.

٤ المال.

(ب)

- تتنوع الصناعات الحرفية في البيئة الزراعية.

### ثانياً: التاريخ

#### السؤال الثالث:

(أ)

١ رأس الرجاء الصالح.

٤ ثورة.

(ب)

١ دار المحكمة.

٢ أخذوا عليه عهداً (شرطاً) وهو عدم فعل شيء دون الرجوع إليهما.

#### السؤال الرابع:

(أ)

١ خطأ.

٤ صواب.

(ب)

- أبي قير البحرية: - انقطاع الصلة بين فرنسا والجيش الفرنسي الموجود في مصر.

- اعتماد الفرنسيين على موارد مصر في سد احتياجاتهم.

- إضعاف قوة الفرنسيين وروحهم المعنوية.

- أبي قير البرية: هزيمة الجيش العثماني وأسر قائده.



## إجابة الاختبار ٥

### أولاً: الجغرافيا

#### السؤال الأول:

(أ)

١ الأحمر.

٤ الإسماعيلية.

(ب)

١ يتسم سكان البيئة الصناعية بارتفاع نسبة التعليم وانخفاض نسبة الأمية.

٢ ظهرت مشكلة تهجير سكان النوبة بسبب بناء السد العالي حيث غمرت مياه بحيرة ناصر قراهم وأراضيهم الزراعية.

#### السؤال الثاني:

(أ)

١ الاقتصادية.

٤ البيئة.

(ب)

- أي إجابة منطقية مقبولة من الطالب.

### ثانياً: التاريخ

#### السؤال الثالث:

(أ)

١ الوقائع المصرية.

٤ فريزر.

(ب)

١ حتي لا تتسرب أخبار الحملة إلي إنجلترا وتتعرض لمهاجمة الأسطول الإنجليزي الذي يراقب الملاحة في البحر المتوسط.

٢ بسبب الإجراءات العنيفة التي اتخذها القائد الفرنسي كليبر ضد أهالي القاهرة.

#### السؤال الرابع:

(أ)

١ طوسون.

٤ السيد عمر مكرم.

(ب)

١ - انقطاع الصلة بين فرنسا والجيش الفرنسي الموجود في مصر.

٢ - اعتماد الفرنسيين على موارد مصر في سد احتياجاتهم.

٣ - إضعاف قوة الفرنسيين وروحهم المعنوية. (يكتفى باثنين)



# سلاح التلميز

منذ عام ١٩٦٠

## Connect

English book

اختبارات نهاية الفصل الدراسي الأول



2023-2022

الصف السادس الابتدائي

6

# Test 1

## (A) Listening

### 1 Listen and circle:

1. a) He bakes bread twice a day. b) He bakes bread twice a month.
2. a) Steak and salad. b) Spaghetti and meatballs.
3. a) How much does it cost to get in? b) How much is it?
4. a) May I speak to Ahmed, please? b) May I speak to Huda?

### 2 Listen and circle:

Salma : Where are we going, Mum?

Mother : We're going to a film (1)..... .

Salma : (2)..... we see actors there?

Mother : Yes, we can.

Salma : Do they wear (3)..... ?

Mother : Yes, they (4)..... .

## (B) Reading

### 3 Choose the correct answer from a, b, c or d:

1. A ..... is someone who bothers people.  
a. friend      b. barber      c. baker      d. pest
2. My brother and I walked to school by .....  
a. myself      b. herself      c. ourselves      d. yourselves
3. Don't ..... to take the money with you, Maha.  
a. forget      b. remember      c. want      d. pay
4. Did you read the ..... yesterday?  
a. haircut      b. newspaper      c. music      d. underground



5. A: "Where did you go?" B: "I ..... home."

- a. stay                      b. stayed                      c. stay                      d. staying

6. He usually ..... a sunburn on the beach.

- a. get                      b. got                      c. getting                      d. gets

7. We're going to eat dinner at a .....

- a. restaurant                      b. theatre                      c. bank                      d. school

8. How ..... some coffee?

- a. many                      b. about                      c. long                      d. much

#### 4 Circle the odd word and replace it with a correct one:

1.	a bottle of	a class of	a glass of	a can of	.....
2.	crazy	degrees	old	cloudy	.....
3.	always	sometimes	after	never	.....
4.	How much	How many	What kind	Can	.....
5.	lemonade	beef	pie	turkey	.....

#### 5 Read the passage and answer the questions:

Ahmed is busy this morning. He's going to iron a shirt at 8:00. He's going to buy groceries at 9:00. He's going to chop vegetables at 10:30. At 11:00, he's going to do the laundry with his sister. His friend Tarek isn't busy. He likes to stay home and watch TV. He doesn't like to help at home.

(A) Choose the correct answer:

1. .... doesn't like to help at home.

- a. Ahmed's friend                      b. Ahmed  
c. Ahmed's mum                      d. Ahmed's friend

2. Tarek likes to .....

- a. iron shirts                      b. stay home  
c. help at home                      d. buy groceries



**(B) Answer the following questions:**

3. When is Ahmed going to buy groceries?

.....

4. What's Ahmed going to do at 10:30?

.....

**(C) Writing**

**6 Write a paragraph of SEVEN (7) sentences:**

Write an email to Ahmed El-Sakka, the film star. His email is El-Sakka@studio.com. Ask him about the films he makes and what he ever does at the studio. Your name is Nahla and your email address is Nahla@exam.com.

.....  
.....  
.....  
.....  
.....  
.....  
.....

**7 Rearrange the following words to make correct sentences:**

1. ever - on - She - make-up - puts - hardly.

.....

2. Fridays - open - you - Are - on?

.....

**8 Punctuate the following sentences:**

1. I ll have a bottle of water

.....

2. Does he always bother hanaa and Shaimaa.

.....

**GOOD LUCK**





## Test 2

### (A) Listening

#### 1 Listen and circle:

1. a) Sorry. We're out of cherry. b) Yes, we do.
2. a) No, she never takes a nap. b) Yes, she sometimes takes a nap.
3. a) What's your telephone number? b) What's her number?
4. a) How often does he feed the birds? b) How often does he feed the animals?

#### 2 Listen and circle:

**Waiter** : How much water did you have?

**Man** : We had two (1)..... of water.

**Waiter** : How (2)..... pieces of apple pie did you have?

**Man** : We (3)..... two pieces of apple pie.

**Waiter** : That's thirty (4)....., sir.

**Man** : Here you are.

### (B) Reading

#### 3 Choose the correct answer from a, b, c or d:

1. He'll have a ..... of apple pie.  
a. piece                      b. glass                      c. bottle                      d. cup
2. I ..... going to wash my hair tomorrow.  
a. do                      b. is                      c. am                      d. are
3. Now you can go to the ..... to pay for your groceries.  
a. basket                      b. trolley                      c. table                      d. checkout
4. She takes medicine three times ..... day.  
a. a                      b. an                      c. on                      d. of



5. .... she ever take a nap?

- a. Does                      b. Do                      c. Is                      d. Are

6. A: ..... your family?" B: "They're fine."

- a. Where's                      b. Who's                      c. How's                      d. What's

7. The car is ....., it costs a lot of money.

- a. high                      b. cheap                      c. bad                      d. expensive

8. Many actors ..... make-up.

- a. take                      b. put away                      c. drive                      d. put on

4 Circle the odd word and replace it with a correct one:

1.	cup	glass	can't	bottle	.....
2.	said	go	run	forget	.....
3.	film	scene	studio	park	.....
4.	sister	brother	teacher	father	.....
5.	apple	waiter	baker	chef	.....

5 Read the passage and answer the questions:

When I was young, I was a pest. That's true. I followed my brother Ramy all the time. I bothered him and his friends. I took his things without asking. I ate his biscuits and candies. My mum said to him, "You're older than Hany. Please be patient with him." But now I don't bother him.

(A) Choose the correct answer:

1. .... was a pest.

- a. Hany                      b. Ramy                      c. Their mother                      d. Hany's friend

2. Hany ..... without asking.

- a. bothered Ramy                      b. followed Ramy  
c. took Ramy's things                      d. wanted to be a pest



(B) Answer the following questions:

3. How did Hany bother his brother?

.....

4. What did Hany's mother say?

.....

### (C) Writing

6 Write an email of SEVEN (7) sentences:

**"My visit to the dentist"**

.....

.....

.....

.....

.....

.....

.....

7 Rearrange the following words to make correct sentences:

1. Citadel - visit - did - When - Qaitbay - she?

.....

2. the - put - a trolley - Ramy - in - groceries

.....

8 Punctuate the following sentences:

1. is Samy driving a sports car.

.....

2. He doesn't take medicine on Sunday.

.....

**GOOD LUCK**



# Test 3

## (A) Listening

### 1 Listen and circle:

1. a) It's in Alexandria. b) It's near the sea.
2. a) Once a month. b) Once a day.
3. a) What's for lunch? b) What's today's special?
4. a) Where did Samy go on Sunday? b) Where did Samy go on Friday?

### 2 Listen and circle:

- Sara** : Why are you angry?
- Esraa** : I have a (1)..... at school.
- Sara** : What's your problem?
- Esraa** : There's a (2)..... in our class.
- Sara** : Did you (3)..... the teacher about him?
- Esraa** : Yes. And she told me to be (4)..... .

## (B) Reading

### 3 Choose the correct answer from a, b, c or d:

1. My uncle is a good ..... . He cooks well.  
a. doctor                      b. chef                      c. teacher                      d. vet
2. I did the laundry by ..... .  
a. ourselves                      b. yourself                      c. myself                      d. himself
3. She usually ..... a sunburn.  
a. gets                      b. listens                      c. runs                      d. signs
4. We have apple pies, but we are ..... of cherry.  
a. out                      b. on                      c. in                      d. over



5. A: "Do you ever put on make-up?" B: "Yes, I ..... do that."  
 a. hardly                      b. hardly ever                      c. sometimes                      d. never
6. The actors ..... the scene before making it.  
 a. hear                      b. rehearse                      c. forget                      d. visit
7. They make all kinds of films at this film .....  
 a. museum                      b. stadium                      c. citadel                      d. studio
8. He's ..... buy groceries.  
 a. go                      b. going                      c. going to                      d. goes to

#### 4 Circle the odd word and replace it with a correct one:

1.	ironed	washed	play	talked	.....
2.	water	glass	bowl	cup	.....
3.	restaurant	salad	school	house	.....
4.	cap	wig	glasses	hair	.....
5.	taxi	bus	underground	newspaper	.....

#### 5 Read the passage and answer the questions:

Grandpa Ali's is a new Italian restaurant in Aswan. It opened last month. Who is Grandpa Ali? Grandpa Ali is the owner. He is the chef, too! Last Friday, Ahmed and his friend Ramy ate dinner at Grandpa Ali's. Ahmed said, "Grandpa Ali's meatballs are the best meatballs in the town." Ramy said, "I'm going to bring my sister here tomorrow. Kids under six eat free!"

##### (A) Choose the correct answer:

1. Grandpa Ali is the ..... of the new Italian restaurant.  
 a. woman                      b. kid  
 c. owner                      d. man
2. Grandpa Ali's is an Italian restaurant in .....  
 a. Aswan                      b. Alexandria                      c. Cairo                      d. Italy



(B) Answer the following questions:

3. When did Grandpa Ali's open?

.....

4. Who eats free at Grandpa Ali's?

.....

### (C) Writing

6 Write a paragraph of SEVEN (7) sentences:

"Buying a cherry pie"

.....  
.....  
.....  
.....  
.....  
.....  
.....

7 Rearrange the following words to make correct sentences:

1. to have - are - going - What - you?

.....

2. going - feed - to - the birds - She's.

.....

8 Punctuate the following sentences:

1. they are open on fridays and Saturdays.

.....

2. did you meet Heba's sister in the park

.....

GOOD LUCK



# Test 4

## (A) Listening

### 1 Listen and circle:

1. a) Well done, please. b) Medium, please.
2. a) At the shop. b) At the bank.
3. a) Where can you buy books? b) Where can you read books?
4. a) Where did the first ice cream factory open? b) Where did the first ice cream shop open?

### 2 Listen and circle:

**Father** : What did you do today, Maha?

**Maha** : I chopped vegetables by (1).....

**Father** : Great! (2)..... about fruit?

**Maha** : Sameh sliced it by (3).....

**Father** : Did you buy (4)..... ?

**Maha** : No, I didn't. Mum bought groceries by herself.

## (B) Reading

### 3 Choose the correct answer from a, b, c or d:

1. .... invented ice cream?  
a. What                      b. When                      c. Who                      d. Where
2. Did she have two ..... of chicken soup?  
a. pieces                      b. loaves                      c. cans                      d. bowls
3. Good morning. .... I help you?  
a. Does                      b. Can                      c. Do                      d. Have
4. No, there wasn't a cinema ..... to the school.  
a. across                      b. next                      c. in front                      d. above



5. Today is cold. It's 20 .....

- a. clouds                      b. rains                      c. seats                      d. degrees

6. In the park, children ..... the birds.

- a. take                      b. feed                      c. bake                      d. visit

7. How often does she ..... a museum?

- a. visit                      b. visits                      c. visiting                      d. visited

8. Ahmed ..... a book once a month.

- a. is read                      b. to read                      c. reading                      d. reads

4 Circle the odd word and replace it with a correct one:

1.	hospital	dentist	nurse	doctor	.....
2.	stay	buy	fruit	wash	.....
3.	cherry	get	peach	lemon	.....
4.	long	short	clean	store	.....
5.	New York	Cone	Aswan	Baltimore	.....

5 Read the passage and answer the questions:

I saw a nice film yesterday. It was one of Asser Yassin's films. Asser Yassin is a film star. He likes sports cars. He always drives one. He hardly ever has an accident. He never wears a wig because he doesn't like them. Many people like him. Some people take photographs with him. He sometimes signs autographs for them, too.

(A) Choose the correct answer:

1. Asser Yassin doesn't like .....

- a. autographs                      b. wigs                      c. sports cars                      d. films

2. Some people ..... with Asser Yassin.

- a. have an accident                      b. drive sports cars  
c. sign autographs                      d. take photographs





**(B) Answer the following questions:**

3. Does Asser Yassin ever have an accident?

.....

4. What does Asser Yassin sometimes do for people?

.....

**(C) Writing**

**6 Write a paragraph of SEVEN (7) sentences:**

Write an email to your friend Ahmed to tell him about your favourite ice cream flavours. Your name is Nader. Your email address is nader@yahoo.com. Your friend's email address is ahmed@yahoo.com.

.....  
.....  
.....  
.....  
.....  
.....  
.....

**7 Rearrange the following words to make correct sentences:**

1. there - across - Was - a bank - the hotel - from?

.....

2. fruit - We - sliced - ourselves - by.

.....

**8 Punctuate the following sentences:**

1. may I speak to your father, please

.....

2. samir visits his uncle every Friday

.....

**GOOD LUCK**



# Test 5

## (A) Listening

### 1 Listen and circle:

1. a) I think so. It's getting cloudy. b) I don't think so. It's fine.
2. a) Kids under six. b) All people.
3. a) Are you ready to get out? b) Are you ready to order?
4. a) Why does he bother you? b) What does he want?

### 2 Listen and circle:

**Hassan :** How are you, Shady?

**Shady :** Fine, thanks. (1)..... were you?

**Hassan :** I was at the (2)..... shop.

**Shady :** (3)..... were you there?

**Hassan :** I went to get a (4)..... .

**Shady :** But your hair is still very long!

**Hassan :** Yes. He's open from 7:00 to 10:00. And now it's 11:00.

## (B) Reading

### 3 Choose the correct answer from a, b, c or d:

1. He stayed home. He ..... go to the dentist.  
a. don't                      b. doesn't                      c. didn't                      d. isn't
2. Ahmed's ..... is 20 Adnan Street, Al Minya.  
a. name                      b. address                      c. age                      d. job
3. How often does your father ..... the underground?  
a. take                      b. taking                      c. took                      d. takes
4. Ahmed Helmy is a ..... . I like all his films.  
a. teacher                      b. chef                      c. film star                      d. dentist



5. .... stayed home by ourselves.

a. I

b. You

c. You and your brother

d. My brother and I

6. I want to have some chicken .....

a. soup

b. water

c. coffee

d. lemonade

7. How ..... bread did Ashraf have for breakfast?

a. tall

b. many

c. much

d. old

8. You can buy ice cream at every ..... store.

a. book

b. grocery

c. barber

d. shoe

4 Circle the odd word and replace it with a correct one:

1.	mum	dad	daughter	sun	.....
2.	open	except	cost	buy	.....
3.	restaurant	café	scene	museum	.....
4.	steak	spaghetti	delicious	meatballs	.....
5.	John	May	March	July	.....

5 Read the passage and answer the questions:

I live in a big town. There's an underground in front of the train station. Near our house, we can see a library, a school, a bank and a post office. My uncle says to me, "You can go to the library on Fridays, Hany." I like reading books. So, I'm going to read some books there. My school is near my house, so I walk to it.

(A) Choose the correct answer:

1. Hany likes .....

a. swimming

b. reading

c. walking

d. eating

2. Hany walks to school because it's ..... his house.

a. in front of

b. next

c. far from

d. near



(B) Answer the following questions:

3. Where is the underground?

.....

4. When is Hany going to the library?

.....

### (C) Writing

6 Write a paragraph of SEVEN (7) sentences:

**"A meal at a restaurant"**

.....

.....

.....

.....

.....

.....

.....

7 Rearrange the following words to make correct sentences:

1. had - pie - They - of - four pieces - apple.

.....

2. buildings - front of - There's - in - the - a pavement.

.....

8 Punctuate the following sentences:

1. how much lemonade did you have.

.....

2. No we don't know who invented ice cream

.....

**GOOD LUCK**



# سلاح التلميز

منذ عام ١٩٦٠

## Connect

English book

إجابات اختبارات نهاية الفصل الدراسي الأول



2023-2022

الصف السادس الابتدائي

6

# Test 1 Answers

## (A) Listening

### 1 Listen and circle:

1. How often does he bake bread?  
- He bakes bread twice a day.
2. What's today's special?  
- Spaghetti and meatballs.
3. How much does it cost to get in?  
- It's two pounds for Egyptians.
4. May I speak to Huda?  
- She's not in right now.

### 2 Listen and circle:

- Salma** : Where are we going, Mum?  
**Mother** : We're going to a film studio.  
**Salma** : Can we see actors there?  
**Mother** : Yes, we can.  
**Salma** : Do they wear wigs?  
**Mother** : Yes, they do.

## (B) Reading

### 3 Choose the correct answer from a, b, c or d:

1. (d)    2. (c)    3. (a)    4. (b)    5. (b)    6. (d)    7. (a)    8. (b)

### 4 Circle the odd word and replace it with a correct one:

1.	bottle of	a class of	a glass of	a can of	a cup of
2.	crazy	degrees	old	cloudy	patient
3.	always	sometimes	after	never	hardly ever
4.	How much	How many	What kind	Can	How often
5.	lemonade	beef	pie	turkey	spaghetti



**5 Read the passage and answer the questions:**

**(A) Choose the correct answer:**

1. (a)    2. (b)

**(B) Answer the following questions:**

3. He's going to buy groceries at 9:00.  
4. He's going to chop vegetables at 10:30.

**(C) Writing**

**6 Write an email of SEVEN (7) sentences:**

To: El-Sakka@studio.com

From: Nahla@exam.com

Subject: Asking about your films

Dear Ahmed El-Sakka,

How are you? I'm sending this email to ask you about the films you make and what you ever do at the studio. Do you rehearse before your scenes? What kind of films do you make? Do you ever wear a wig? I hope I can come to your studio one day. Waiting for your reply.

Yours,

Nahla

**7 Rearrange the following words to make correct sentences:**

1. She hardly ever puts on make-up.  
2. Are you open on Fridays?

**8 Punctuate the following sentences:**

1. I'll have a bottle of water.  
2. Does he always bother Hanaa and Shaimaa?



## Test 2 Answers

### (A) Listening

#### 1 Listen and circle:

1. Do you have any cherry pies?  
- Sorry. We're out of cherry.
2. Does she ever take a nap?  
- Yes, she sometimes takes a nap.
3. What's your telephone number?  
- 35551839.
4. How often does he feed the birds?  
- He feeds the birds four times a month.

#### 2 Listen and circle:

- Waiter** : How much water did you have?  
**Man** : We had two bottles of water.  
**Waiter** : How many pieces of apple pie did you have?  
**Man** : We had two pieces of apple pie.  
**Waiter** : That's thirty pounds ,sir.  
**Man** : Here you are.

### (B) Reading

#### 3 Choose the correct answer from a, b, c or d:

1. (a)    2. (c)    3. (d)    4. (a)    5. (a)    6. (c)    7. (d)    8. (d)

#### 4 Circle the odd word and replace it with a correct one:

1.	cup	glass	can't	bottle	bowl
2.	said	go	run	forget	put
3.	film	scene	studio	park	actor
4.	sister	brother	teacher	father	mother
5.	apple	waiter	baker	chef	driver





## 5 Read the passage and answer the questions:

(A) Choose the correct answer:

1. (a)    2. (c)

(B) Answer the following questions:

3. He took his things without asking.
4. She said to him, "You're older than Hany. Please be patient with him."

## (C) Writing

## 6 Write a paragraph of SEVEN (7) sentences:

My teeth hurt last week. So, I went to the dentist. I went with my brother. I was scared at first. The dentist gave me medicine. I took the medicine twice a day. I'm better now.

## 7 Rearrange the following words to make correct sentences:

1. When did she visit Qaitbay Citadel?
2. Ramy put the groceries in a trolley.

## 8 Punctuate the following sentences:

1. Is Samy driving a sports car?
2. He doesn't take medicine on Sunday.



## Test 3 Answers

### (A) Listening

#### 1 Listen and circle:

1. Where's Qaitbay Citadel?  
- It's in Alexandria.
2. How often does he feed the birds?  
- Once a day.
3. What's today's special?  
- Spaghetti and meatballs.
4. Where did Samy go on Friday?  
- He went to a film studio.

#### 2 Listen and circle:

- Sara** : Why are you angry?  
**Esraa** : I have a **problem** at school.  
**Sara** : What's your problem?  
**Esraa** : There's a **pest** in our class.  
**Sara** : Did you **tell** the teacher about him?  
**Esraa** : Yes. And she told me to be **patient**.

### (B) Reading

#### 3 Choose the correct answer from a, b, c or d:

1. (b)    2. (c)    3. (a)    4. (a)    5. (c)    6. (b)    7. (d)    8. (c)

#### 4 Circle the odd word and replace it with a correct one:

1.	ironed	washed	play	talked	watched
2.	water	glass	bowl	cup	bottle
3.	restaurant	salad	school	house	park
4.	cap	wig	glasses	hair	skirt
5.	taxi	bus	underground	newspaper	car



**5 Read the passage and answer the questions:**

**(A) Choose the correct answer:**

1. (c)    2. (a)

**(B) Answer the following questions:**

3. It opened last month.  
4. Kids under six eat free.

**(C) Writing**

**6 Write a paragraph of SEVEN (7) sentences:**

My favorite pie is the cherry pie. It tastes delicious. I always buy it from the bakery. It costs 10 pounds. I often eat it with my brother. I sometimes eat a cherry pie at the weekend. I like cherry pies very much.

**7 Rearrange the following words to make correct sentences:**

1. What are you going to have?  
2. She's going to feed the birds.

**8 Punctuate the following sentences:**

1. They are open on Fridays and Saturdays.  
2. Did you meet Heba's sister in the park?



## Test 4 Answers

### (A) Listening

#### 1 Listen and circle:

1. How do you like your steak?  
- Well done, please.
2. Where do you get money?  
- At the bank.
3. Where can you read books?  
- At the library.
4. Where did the first ice cream factory open?  
- It opened in Baltimore.

#### 2 Listen and circle:

- Father** : What did you do today, Maha?  
**Maha** : I chopped vegetables by **myself**.  
**Father** : Great! **What** about fruit?  
**Maha** : Sameh sliced it by **himself**.  
**Father** : Did you buy **groceries**?  
**Maha** : No, I didn't. Mum bought groceries by herself.

### (B) Reading

#### 3 Choose the correct answer from a, b, c or d:

1. (c)    2. (d)    3. (b)    4. (b)    5. (d)    6. (b)    7. (a)    8. (d)

#### 4 Circle the odd word and replace it with a correct one:

1.	hospital	dentist	nurse	doctor	vet
2.	stay	buy	fruit	wash	cook
3.	cherry	get	peach	lemon	strawberry
4.	long	short	clean	store	tall
5.	New York	cone	Aswan	Baltimore	Cairo



## 5 Read the passage and answer the questions:

(A) Choose the correct answer:

1. (b)
2. (d)

(B) Answer the following questions:

3. No, he hardly ever has an accident.
4. He sometimes signs autographs for them.

## (C) Writing

## 6 Write an email of SEVEN (7) sentences:

To: ahmed@yahoo.com

From: nader@yahoo.com

Subject: My favourite ice cream flavours

Dear Ahmed,

How are you? I'm sending this email to tell you about my favourite ice cream flavours. I like chocolate and vanilla. I buy these flavors from the supermarket. They are delicious. What are your favourite ice cream flavours? Waiting for your reply.

Yours,

Nader

## 7 Rearrange the following words to make correct sentences:

1. Was there a bank across from the hotel?
2. We sliced fruit by ourselves.

## 8 Punctuate the following sentences:

1. May I speak to your father, please?
2. Samir visits his uncle every Friday.



## Test 5 Answers

### (A) Listening

#### 1 Listen and circle:

1. Do you think it's going to rain?  
- I think so. It's getting cloudy.
2. Who eats free at some restaurants?  
- Kids under six.
3. Are you ready to order?  
- Yes, I'll have a steak, please.
4. Why does he bother you?  
- He wants attention.

#### 2 Listen and circle:

- Hassan** : How are you, Shady?  
**Shady** : Fine, thanks. Where were you?  
**Hassan** : I was at the barber's shop.  
**Shady** : Why were you there?  
**Hassan** : I went to get a haircut.  
**Shady** : But your hair is still very long!  
**Hassan** : Yes. He's open from 7:00 to 10:00. And now it's 11:00.

### (B) Reading

#### 3 Choose the correct answer from a, b, c or d:

1. (c)    2. (b)    3. (a)    4. (c)    5. (d)    6. (a)    7. (c)    8. (b)

#### 4 Circle the odd word and replace it with a correct one:

1.	mum	dad	daughter	sun	son
2.	open	except	cost	buy	sell
3.	restaurant	café	scene	museum	school
4.	steak	spaghetti	delicious	meatballs	potatoes
5.	John	May	March	July	April



## 5 Read the passage and answer the questions:

(A) Choose the correct answer:

1. (b)
2. (d)

(B) Answer the following questions:

3. It's in front of the train station.
4. He's going to the library on Friday.

## (C) Writing

## 6 Write a paragraph of SEVEN (7) sentences:

I have a big restaurant in my town. It serves delicious food. I always go there to have steak and spaghetti. I like my steak well-done. I have cookies for dessert. They make the best cookies. The prices are very good.

## 7 Rearrange the following words to make correct sentences:

1. They had four pieces of apple pie.
2. There's a pavement in front of the buildings.

## 8 Punctuate the following sentences:

1. How much lemonade did you have?
2. No, we don't know who invented ice cream.



# سلاح التلميز

منذ عام ١٩٦٠

## التربية الدينية الإسلامية

اختبارات نهاية الفصل الدراسي الأول



2023 - 2022

الصف السادس الابتدائي

6



## الاختبار ١

### أولاً: القرآن الكريم

قال ﷺ: ﴿فَلَا تَطْعَمُ الْمَكْذِبِينَ﴾ (٨) وَدُّوْا لَوُدَّهِنَّ فَيُدْهِنُونَ (٩) وَلَا تَطْعَمُ كُلَّ حَلَاكِ مَهِينٍ (١٠) هَمَّا زِمَّاءَ بَنِي مِمْ (١١).

أ) ما المقصود بـ ﴿مَشَاءَ بَنِي مِمْ﴾ في الآيات السابقة؟ .....

ب) عن أى شيء نهى الله ﷻ رسوله ﷺ في الآيات السابقة؟ .....

ج) اكتب إلى قوله ﷻ: ﴿سَنَسِمُهُ عَلَى الْخُرُطُورِ﴾. ....

### ثانياً: الحديث الشريف

قال رسول الله ﷺ: «من كان عنده فضل ظهر فليعد به ..... ، ومن كان عنده فضل زاد .....».

أ) اكتب المحذوف من الحديث الشريف.

ب) هات معنى (فليعد به) : .....

ج) ما الذى تعلّمته من هذا الحديث الشريف؟ .....

### ثالثاً: الفروع

#### أ) اختر الإجابة الصحيحة:

١) إن اقتربت الشمس من الأرض ..... كل شيء.

- زاد.
- تجمد.
- احترق.

٢) التفكير فى مخلوقات الله يؤدى إلى قوة .....

- الإيمان.
- الحسد.
- النظر.

٣) أمر الله ﷻ نبيه ﷺ بـ ..... قتلة عمه حمزة رضى الله عنه .

- ضرب.
- الانتقام من.
- العفو عن.

٤) أسلم سيدنا حمزة بن عبد المطلب رضى الله عنه فى السنة ..... للبعثة.

- السادسة.
- السابعة.
- الثامنة.



ب) ضع علامة (✓) أمام العبارة الصحيحة، وعلامة (X) أمام العبارة غير الصحيحة:

- ١) يسير الكون على نظام متغير. ( )
- ٢) نتوجه لله ﷻ بالدعاء لأنه قادر على كل شيء. ( )
- ٣) امثل الرسول ﷺ لأمر الله ﷻ يوم فتح مكة. ( )
- ٤) كان إسلام سيدنا حمزة بن عبد المطلب ﷺ عزًا للإسلام. ( )

### رابعًا: القصة

أ) اختر الإجابة الصحيحة:

- ١) كان العرب في الجاهلية يئدون .....
  - الأولاد.
  - البنات.
  - الأولاد والبنات.
- ٢) أرجع ميسرة سبب الربح الوفير إلى .....
  - محمد ﷺ.
  - خديجة ﷺ.
  - مهارته.
- ٣) بشر ورقة بن نوفل محمدًا ﷺ بأنه سيكون .....
  - غنيًا.
  - نبيا.
  - رئيسًا.

ب) أجب عن السؤال الآتي:

لماذا وافقت السيدة خديجة ﷺ على خروج محمد ﷺ في قافلة الشام؟



## أولاً: القرآن الكريم

قال ﷺ: ﴿إِنَّا أَرْسَلْنَا نُوحًا إِلَى قَوْمِهِ أَنْ أَنْذِرْ قَوْمَكَ مِنْ قَبْلِ أَنْ يَأْتِيَهُمْ عَذَابٌ أَلِيمٌ﴾ (١) قَالَ يَقَوْمُ إِنِّي لَكُمْ نَذِيرٌ مُبِينٌ ﴿٢﴾.

أ) ما المقصود بـ ﴿مُبِينٌ﴾ في الآية الكريمة؟ .....

ب) لماذا أرسل الله ﷻ نوحًا ﷺ إلى قومه؟ .....

ج) اكتب إلى قوله تعالى: ﴿إِنَّ أَجَلَ اللَّهِ إِذَا جَاءَ لَا يُؤَخَّرُ لَوْ كُنْتُمْ تَعْلَمُونَ﴾. ....

## ثانيًا: الحديث الشريف

قال رسول الله ﷺ لعلي بن أبي طالب رضي الله عنه: «فوالله لأن يهدي الله بك .....

أ) اكتب إلى نهايه الحديث الشريف.

ب) ضع علامة (✓) أمام العبارة الصحيحة، وعلامة (X) أمام العبارة غير الصحيحة:

١) يجب على المسلم أن يتعلم العلم ويعلمه للناس . (.....)

٢) تُقاس الأمم بما لديها من أموال. (.....)

ج) ما نوع العلم الذي يجب أن يتعلمه المسلم؟ .....

## ثالثًا: الفروع

أ) اختر الإجابة الصحيحة:

١) تغرب الشمس دائماً جهة ..... .

• الشرق. • الغرب. • الجنوب.

٢) الشمس والقمر من صنْع ..... .

• الإنسان. • الله ﷻ. • الملائكة.

٣) الدعوة إلى الله ﷻ أساسها ..... .

• حُسْنُ الْخُلُقِ. • الغِلْظَةُ. • العُنْفُ.

٤) الذي قتل سيدنا حمزة رضي الله عنه هو ..... .

• وحشى. • أبو جهل. • أبو لهب.



ب) ضع علامة (✓) أمام العبارة الصحيحة، وعلامة (X) أمام العبارة غير الصحيحة:

- ١) خَلَقَ اللهُ ﷻ البشر مختلفين فى الألوان والأشكال. (.....)
- ٢) خَلَقَ الإبل من مظاهر قدرة الله ﷻ. (.....)
- ٣) المقصود بقوله ﷻ: ﴿سَبِّحْ رَبَّكَ﴾ هو دين الله ﷻ. (.....)
- ٤) أسلم سيدنا حمزة رَضِيَ اللهُ عَنْهُ بعد عودته من الحج. (.....)

### رابعاً: القصة

أ) اختر الإجابة الصحيحة:

- ١) عتيق بن عابد ..... زوج للسيدة خديجة رَضِيَ اللهُ عَنْهَا .  
• أول.  
• ثانى.  
• ثالث.
- ٢) أبو طالب بن عبد المطلب كان سيد .....  
• يثرب.  
• المدينة.  
• مكة.
- ٣) العمل ضرورى لـ .....  
• الغنى.  
• الفقير.  
• هما معاً.

ب) أجب عن السؤال الآتى:

«ماذا فعلتم يا ميسرة؟ ما هذا الربح كله؟» مَنْ قائل هذه العبارة، وما مناسبتها؟

---

---



قال ﷺ: ﴿ت وَالْقَلَمِ وَمَا يَسْطُرُونَ﴾ (١) مَا أَنْتَ بِعَمَةٍ رَبِّكَ يَمْجُونَ (٢) وَإِنَّ لَكَ لَأَجْرًا غَيْرَ مَمْنُونٍ ﴿٢﴾. اكتب إلى قوله ﷺ: ﴿وَهُوَ أَعْلَمُ بِالْمُهْتَدِينَ﴾.

ب اختر الإجابة الصحيحة:

- ١ المقصود ب ﴿ت﴾ .....  
 • الحوت. • الدواة.  
 ٢ معنى ﴿مَمْنُونٍ﴾ .....  
 • مقطوع. • قليل.  
 ج أكمل: أقسم الله ﷻ بالقلم؛ ليدل على أهمية

ثانياً: الحديث الشريف

قال رسول الله ﷺ: «ومن يسر على معسر يسر الله عليه في الدنيا والآخرة، ومن ستر مسلماً ستره الله في الدنيا والآخرة.....».

أ اكتب الحديث الشريف إلى نهايته .

ب هات معنى (يسر) : .....

ج ما أثر العمل بهذا الحديث الشريف في المجتمع؟ .....

ثالثاً: الفروع

أ اختر الإجابة الصحيحة:

- ١ القمر يبدأ .....  
 • هلاًلاً. • بدرًا.  
 ٢ أثر الأنصار ..... على أنفسهم.  
 • الكفار. • المشركين.  
 ٣ هاجر سيدنا حمزة رَضِيَ اللهُ عَنْهُ إلى .....  
 • الحبشة. • المدينة.  
 ٤ من صفات سيدنا حمزة رَضِيَ اللهُ عَنْهُ .....  
 • الجبن. • البخل.  
 • الشجاعة. • مكة.



ب) ضع علامة (✓) أمام العبارة الصحيحة، وعلامة (X) أمام العبارة غير الصحيحة:

- ١) الكواكب والنجوم تظهر بانتظام. (.....)
- ٢) عندما فتح النبي ﷺ مكة عاقب أهلها. (.....)
- ٣) لُقّب حمزة رضي الله عنه بـ (سيد الشهداء)؛ لأنه كان من أسباب النصر في غزوة بدر. (.....)
- ٤) كان سيدنا حمزة رضي الله عنه يحب الصيد. (.....)

### رابعًا: القصة

أ) اختر الإجابة الصحيحة:

- ١) تقع دار خويلد بن أسد في .....
  - مكة.
  - المدينة.
  - يثرب.
- ٢) أنجبت السيدة خديجة رضي الله عنها من زوجها النباش .....
  - ولدًا واحدًا.
  - ولدين.
  - ثلاثة أولاد.
- ٣) كان ربح تجارة السيدة خديجة رضي الله عنها بعد عودة القافلة .....
  - وفيرًا.
  - قليلًا.
  - متوسطًا.

ب) أجب عن السؤال الآتي:

ماذا كان يفعل محمد ﷺ في شهر رمضان من كل عام؟

.....

.....



## أولاً: القرآن الكريم

قال الله ﷻ: ﴿أَمَرْتُمْ كَيْفَ خَلَقَ اللَّهُ سَبْعَ سَمَوَاتٍ طِبَاقًا ۚ ﴿١٥﴾ وَجَعَلَ الْقَمَرَ فِيهِنَّ نُورًا وَجَعَلَ الشَّمْسَ سِرَاجًا ۚ ﴿١٦﴾﴾ .

- أ) ما معنى ﴿طِبَاقًا﴾ ؟ .....
- ب) بين سيدنا نوح عليه السلام لقومه دلائل قدرة الله ﷻ وعظمته . اذكر من الآيتين الكريمتين السابقتين ما يدل على ذلك .
- ج) اكتب إلى قوله تعالى ﴿سُبُلًا فِجَاجًا﴾ .

## ثانياً: الحديث الشريف

قال رسول الله ﷺ: «طلب العلم فريضة على كل مسلم ومسلمة».

- أ) ما معنى : ( فريضة ) ؟ .....
- ب) على مَنْ يجب طلب العلم كما تفهم من الحديث الشريف ؟ .....
- ج) إلامَ يرشدنا الحديث الشريف ؟ .....

## ثالثاً: الفروع

## أ) اختر الإجابة الصحيحة:

- ١) يظهر الهلال أول الشهر .....  
 • الميلادي .  
 • القبطي .  
 • الهجري .
- ٢) البخل من الصفات .....  
 • المذمومة .  
 • المحبوبة .  
 • الحسنة .
- ٣) سيدنا حمزة رضي الله عنه ..... الرسول ﷺ .  
 • خال .  
 • ابن .  
 • عم .
- ٤) لُقِّب سيدنا حمزة رضي الله عنه بـ ..... بعد غزوة بدر .  
 • أسد الله .  
 • سيف الله .  
 • أمين الأمة .



ب) ضع علامة (✓) أمام العبارة الصحيحة، وعلامة (X) أمام العبارة غير الصحيحة:

- ١) خَلَقَ اللهُ ﷺ لنا لساناً نتحدث به. (.....)
- ٢) العقاب يكون بمثل الاعتداء الذى وقع علينا. (.....)
- ٣) استشهد سيدنا حمزة رَضِيَ اللهُ عَنْهُ فى غزوة الخندق. (.....)
- ٤) سيدنا حمزة رَضِيَ اللهُ عَنْهُ ضرب أبا جهل بالقوس؛ لأنه سبَّ الرسول ﷺ. (.....)

### رابعاً: القصة

أ) اختر الإجابة الصحيحة:

- ١) كانت لدار خويلد بن أسد مكانة ..... فى قريش.
  - صغيرة.
  - متوسطة.
  - كبيرة.
- ٢) الزوج الثانى للسيدة خديجة رَضِيَ اللهُ عَنْهَا هو .....
  - عتيق بن عابد.
  - النبَّاش بن زُرارة.
  - محمد بن عبد الله رَضِيَ اللهُ عَنْهُ.
- ٣) كان ميسرة غلاماً لـ .....
  - محمد رَضِيَ اللهُ عَنْهُ.
  - خديجة رَضِيَ اللهُ عَنْهَا.
  - أبى طالب.

ب) أجب عن السؤال الآتى:

كيف شاركت السيدة خديجة رَضِيَ اللهُ عَنْهَا النبى ﷺ فى نشر الدعوة؟

---

---





أولاً: القرآن الكريم

قال الله ﷻ: ﴿فَقُلْتُ اسْتَغْفِرُوا رَبَّكُمْ إِنَّهُ كَانَ... ١٠ يُرْسِلِ السَّمَاءَ عَلَيْكُمْ... ١١ وَيُمَدِّدْكُمْ بِأَمْوَالٍ وَبَنِينَ وَيَجْعَلْ لَكُمْ جَنَّاتٍ وَيَجْعَلْ لَكُمْ... ١٢ مَا لَكُمْ لَا تَرْجُونَ لِلَّهِ وَقَارًا ١٣ وَقَدْ خَلَقَكُمْ... ١٤﴾

أ) أكمل الآيات الكريمة.

ب) ما معنى ﴿وَقَارًا﴾؟

ج) ذكرت الآيات السابقة بعض نعم الله ﷻ، وضحها.

ثانياً: الحديث الشريف

قال رسول الله ﷺ: «وإن العلماء ورثة الأنبياء، وإن الأنبياء لم يورثوا ديناراً ولا درهماً».

أ) أكمل الحديث الشريف.

ب) ماذا يرث العلماء من الأنبياء ﷺ؟

ج) طرُق طلب العلم كثيرة منها: ، و ، و .

ثالثاً: الفروع

أ) اختر الإجابة الصحيحة:

١) يصير القمر ..... فى منتصف الشهر.

- هلاًلاً .
- بدرًا .
- محاقًا .

٢) ندعو إلى سبيل الله بـ .....

- العنف .
- المكر .
- الحكمة .

٣) لُقّب سيدنا حمزة رَضِيَ اللهُ عَنْهُ بـ .....

- أسد الله .
- سيد الشهداء .
- الفاروق .

٤) الحكمة ..... عند التعامل مع الأعداء.

- واجبة .
- مكروهة .
- مذمومة .



ب) ضع علامة (✓) أمام العبارة الصحيحة، وعلامة (X) أمام العبارة غير الصحيحة:

- ١) إذا وقع المسلم فى خطأ نتيجة السهو أو النسيان يدعو الله ﷻ أن يسامحه. (.....)
- ٢) العفو عند المقدرة من صور القوة. (.....)
- ٣) العالم والجاهل متساويان عند الله ﷻ. (.....)
- ٤) لم يقاتل سيدنا حمزة ﷺ فى غزوة بدر. (.....)

### رابعاً: القصة

أ) اختر الإجابة الصحيحة:

- ١) كان ورقة بن نوفل ..... السيدة خديجة ﷺ.
  - خال.
  - عم.
  - ابن عم.
- ٢) كان النبی ﷺ يعتكف فى ..... قبل بعثته.
  - غار حراء.
  - غار ثور.
  - جبل أحد.
- ٣) أول من آمن برسالة محمد ﷺ من النساء هى .....
  - فاطمة ﷺ.
  - خديجة ﷺ.
  - عائشة ﷺ.

ب) أجب عن السؤال الآتى:

كيف استقبل أهل مكة خبر النبوة؟

---

---



# سلاح التلميز

منذ عام ١٩٦٠

## التربية الدينية الإسلامية

إجابات اختبارات نهاية الفصل الدراسي الأول



الصف السادس الابتدائي 2022 - 2023

6

## إجابة الاختبار ١

### أولاً: القرآن الكريم

أ) الذى ينقل الكلام بين الناس بغرض الإفساد بينهم.

ب) نهى عن طاعة المكذبين وعن طاعة كل إنسان كثير الحلف كذاب، يمشي بين الناس بالنميمة، وينقل الكلام للإفساد بينهم.

ج) ﴿مَنَعَ لِّلْخَبَرِ مُعْتَدٍ أَثِمٌ ۚ عَثِلٌ بَعْدَ ذَٰلِكَ زَنِيمٌ ۚ أَن كَانَ ذَا مَالٍ وَبَنِينَ ۚ إِذَا تُتْلَىٰ عَلَيْهِ آيَاتُنَا قَالَ أَسَاطِيرُ الْأَوَّلِينَ ۚ سَنَسِفُهُ ۚ عَلَى الْمُرْطُورِ ۚ﴾ .

### ثانياً: الحديث الشريف

أ) قال رسول الله ﷺ : « من كان عنده فضل ظهر فليعد به ... عَلَى مَنْ لَا ظَهَرَ لَهُ، ومن كان عنده فضل زاد ... فَلْيَعْدُ بِهِ عَلَى مَنْ لَا زَادَ لَهُ » .

ب) فليعطه .

ج) تعلمت مساعدة الناس بما يزيد عن حاجتى، والأفضل أن أؤثرهم على نفسى بما لدى .

### ثالثاً: الفروع

أ) ١) احترق .

٢) الإيمان .

٣) العفو عن .

٤) السادسة .

ب) ١) X

٢) ✓

٣) ✓

٤) ✓

### رابعاً: القصة

أ) ١) البنات .

٢) محمد ﷺ .

٣) نبياً .

ب) لأمانته وصدقه وإخلاصه فى عمله، ولأنه كان مثلاً للعفة والطهارة، وأنه قوى قادر على مقاومة عناء السفر، وله خبرة بالتجارة وأمورها، وكان حاسباً ماهراً ومدبراً مفكراً، كما أنه يعرف الطريق التى تسير فيها القوافل .

## إجابة الاختبار ٢

### أولاً: القرآن الكريم

أ) مُوضَّح رسالتى لكم.

ب) لِيَحْذَرَهُمْ عَاقِبَةُ كُفْرِهِمْ ، مِنْ قَبْلِ أَنْ يَحِلَّ بِهِمْ عَذَابُ اللَّهِ تَعَالَى .

ج) ﴿أَنِ اعْبُدُوا اللَّهَ وَاتَّقُوهُ وَأَطِيعُوا ۖ يَغْفِرْ لَكُمْ مِّنْ ذُنُوبِكُمْ وَيُخْرِجْكُمْ إِلَىٰ أَجَلٍ مُّسَمًّى ۖ إِنَّ أَجَلَ اللَّهِ إِذَا جَاءَ لَا يُؤَخَّرُ لَوْ كُنْتُمْ تَعْلَمُونَ ۚ﴾ .

### ثانياً: الحديث الشريف

أ) رَجُلًا وَاحِدًا، خَيْرٌ لَّكَ مِنْ أَنْ يَكُونَ لَكَ حُمْرُ النَّعَمِ .

٢) X

ب) ١) ✓

ج) العلم النافع الذى يفيد صاحبه والناس .



### ثالثًا: الفروع

- أ ١ الغرب. ☒ ١  
ب ١ الغرب. ☒ ١  
٢ الله ﷻ. ☒ ٢  
٣ حسن الخلق. ☒ ٣  
٤ وحشى. ☒ ٤

### رابعًا: القصة

- أ ١ أول. ☒ ١  
ب ٢ مكة. ☒ ٢  
٣ هما معًا. ☒ ٣  
ب قالتها السيدة خديجة، عندما رجعت القافلة من الشام وفحصت خديجة تجارتها فأدهشها الربح الوفير الذى عاد به محمد ﷺ.

## إجابة الاختبار ٣

### أولًا: القرآن الكريم

- أ ١ وَإِنَّكَ لَعَلَى خُلُقٍ عَظِيمٍ ٤ فَسَبِّحْهُ وَابْصُرْ ٥ يَا أَيَّتُهَا الْمَفْتُونُ ٦ إِنَّ رَبَّكَ هُوَ أَعْلَمُ بِمَنْ ضَلَّ عَنْ سَبِيلِهِ وَهُوَ أَعْلَمُ بِالْمُهْتَدِينَ ٧  
ب ١ كل ما سبق. ☒ ١  
ج ٢ المقطوع. ☒ ٢  
د العلم والقراءة والكتابة. ☒ ٢

### ثانيًا: الحديث الشريف

- أ ١ وَاللَّهِ فِي عَوْنِ الْعَبْدِ مَا كَانَ الْعَبْدُ فِي عَوْنِ أَخِيهِ.  
ب سهل. ☒ ١  
ج تنتشر المودة والمحبة والترابط في المجتمع فينهض، وينتشر الرخاء والأمن والسعادة. ☒ ١

### ثالثًا: الفروع

- أ ١ هلاًا. ☒ ١  
ب ١ هلاًا. ☒ ١  
٢ المهاجرين. ☒ ٢  
٣ المدينة. ☒ ٣  
٤ الشجاعة. ☒ ٤

### رابعًا: القصة

- أ ١ مكة. ☒ ١  
ب ٢ ولدين. ☒ ٢  
٣ وفيرًا. ☒ ٣  
ب كان يأخذ زاده من الشعير والملح والزيت والتمر وما يكفيه من الماء، ثم يذهب إلى جبل حراء وينقطع عن الناس ويتأمل في جميل صنع الله ﷻ.

## إجابة الاختبار ٤

### أولًا: القرآن الكريم

- أ ١ بعضها فوق بعض. ☒ ١  
ب خلق السماوات السبع بعضها فوق بعض، جعل القمر ينير ليلاً والشمس تنير نهارًا. ☒ ١  
ج ١ وَاللَّهُ أَنْبَتَكُمْ مِنَ الْأَرْضِ نَبَاتًا ١٧ ثُمَّ يُعِيدُكُمْ فِيهَا وَيُخْرِجُكُمْ إِخْرَاجًا ١٨ وَاللَّهُ جَعَلَ لَكُمُ الْأَرْضَ بِسَاطًا ١٩ لَتَسْلُكُوا مِنْهَا سُبُلًا فِجَاجًا ٢٠



### ثانيًا: الحديث الشريف

- أ واجب .  
 ب على كل مسلم ومسلمة .  
 ج يرشدنا الحديث إلى أهمية طلب العلم .

### ثالثًا: الفروع

- أ الهجرى .  
 ب ١ ✓  
 ٢ المذمومة .  
 ٢ ✓  
 ٣ عم .  
 ٣ ✗  
 ٤ أسد الله .  
 ٤ ✓

### رابعًا: القصة

- أ كبيرة .  
 ب كانت تدعو صاحباتها وجاراتها إلى دارها؛ لتخبرهن برسالة النبي محمد ﷺ .  
 ٢ النبّاش بن زُرارة .  
 ٣ خديجة .

## إجابة الاختبار ٥

### أولًا: القرآن الكريم

- أ ﴿فَقُلْتُ اسْتَغْفِرُوا رَبَّكُمْ إِنَّهُ كَانَ غَفَّارًا ۝١٠ يُرْسِلِ السَّمَاءَ عَلَيْكُمْ مِدْرَارًا ۝١١ وَيُمْدِدْكُمْ بِأَمْوَالٍ وَيَنْبِيْ وَيَجْعَلْ لَكُمْ جَنَّاتٍ وَيَجْعَلْ لَكُمْ أَنْهَارًا ۝١٢ مَا لَكُمْ لَا تَرْجُونَ لِلَّهِ وَقَارًا ۝١٣ وَقَدْ خَلَقَكُمْ أَطْوَارًا ۝١٤﴾ .  
 ب توقيرًا وتعظيمًا .  
 ج من نعم الله ﷻ أنه يغفر الذنوب، يُنزل المطر الذي يخصب الأرض، ويرزقنا الأموال والأولاد والبساتين والأنهار .

### ثانيًا: الحديث الشريف

- أ وإنما ورثوا العلم، فمن أخذ به أخذ بحظ وافر .  
 ب يرثون العلم .  
 ج المدرسة ، وقراءة الكتب ، وتصفح مواقع الإنترنت .

### ثالثًا: الفروع

- أ بدرا .  
 ب ١ ✓  
 ٢ الحكمة .  
 ٢ ✓  
 ٣ سيد الشهداء .  
 ٣ ✗  
 ٤ واجبة .  
 ٤ ✗

### رابعًا: القصة

- أ ابن عم .  
 ب قابله الكثيرون بالسخرية والاستهزاء، واتهموا سيدنا محمدًا ﷺ والسيدة خديجة بالجنون .  
 ٢ غار حراء .  
 ٣ خديجة رضي الله عنها .

